

# 7

## 平面圖形(一)



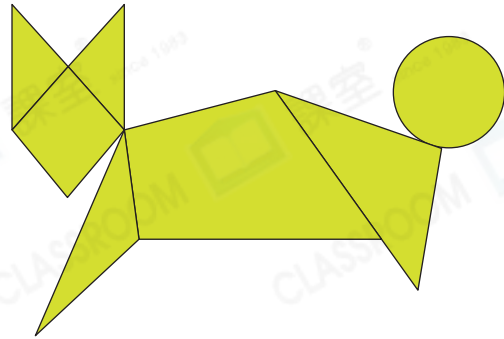
日期：\_\_\_\_\_

成績：\_\_\_\_\_



數一數。

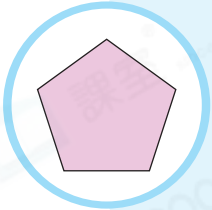
1. \_\_\_\_\_ 個圓形。
2. \_\_\_\_\_ 個三角形。
3. \_\_\_\_\_ 個四邊形。



寫出左面圖形的名稱，並在同類的圖形上加上「✓」。

4.

\_\_\_\_\_ 形



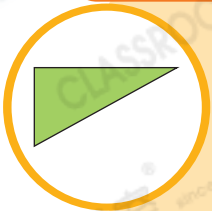
5.

\_\_\_\_\_ 形

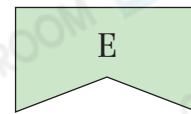
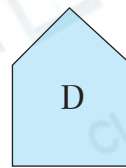
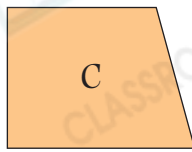
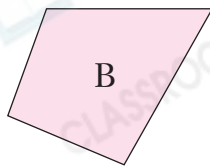
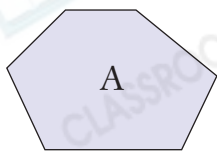


6.

\_\_\_\_\_ 形



7. 觀察下面的平面圖形，寫出所有代表答案的英文字母。

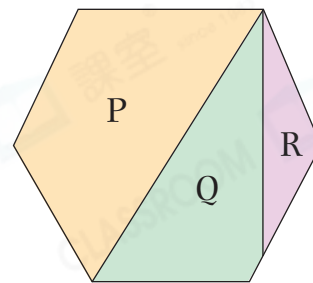


(a) 四邊形：\_\_\_\_\_

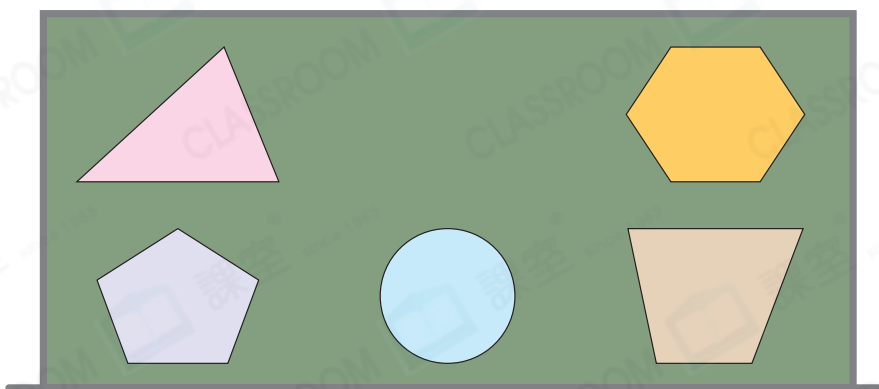
(b) 六邊形：\_\_\_\_\_

8. 右圖是由P、Q和R組成的六邊形，以下哪一項是正確的？

- A. P是四邊形，Q和R是三角形。
- B. P是五邊形，Q和R是三角形。
- C. R是三角形，P和Q是四邊形。
- D. R是三角形，P和Q是五邊形。



9. 老師把一些平面圖形貼在黑板上。



\_\_\_\_\_形在三角形的下面。

10. 右圖是由\_\_\_\_\_個四邊形和\_\_\_\_\_個\_\_\_\_\_形所組成。

