

# 8

## 平面圖形(二)



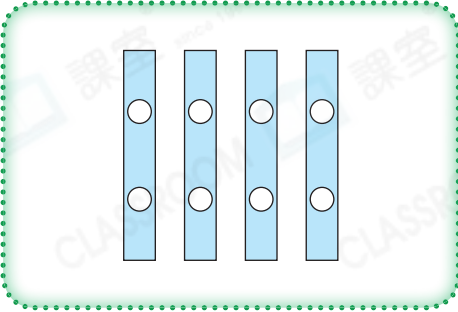
日期：\_\_\_\_\_

成績：\_\_\_\_\_



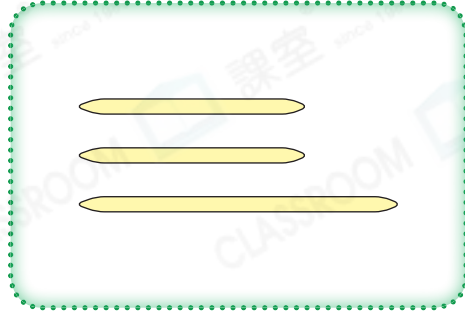
下列各組材料剛好可拼出哪種平面圖形？圈出答案。

1.




( 圓形 / 四邊形 )

2.




( 三角形 / 四邊形 )

3.



( 四邊形 / 五邊形 )

4.

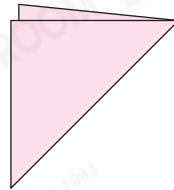
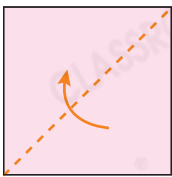


( 圓形 / 六邊形 )



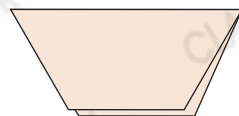
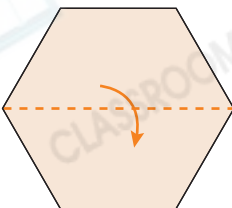
依以下步驟，可摺出哪種平面圖形？寫出它們的名稱。

5.



\_\_\_\_\_ 形

6.



\_\_\_\_\_ 形

7. 以下哪一件物件可以用來輔助畫出一個圓形？


○ A.



○ B.



○ C.

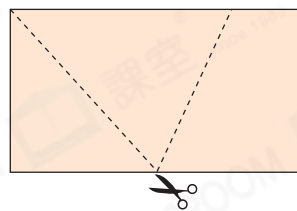


○ D.




8. (a) 右圖是一個\_\_\_\_\_形。

(b) 沿着虛線把右面的圖形剪開後，可得到兩個\_\_\_\_\_形和一個\_\_\_\_\_形。

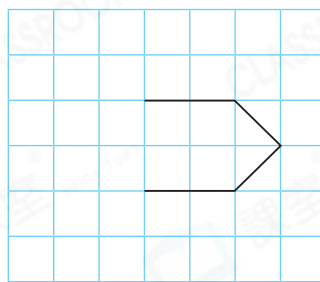


9. 加畫兩條直線，與原有的直線組成指定的平面圖形。

(a) 三角形



(b) 六邊形



10. (a) 圖形C是一個\_\_\_\_\_形。

(b) 圖形F和圖形\_\_\_\_\_可拼成一個三角形。

(c) 利用圖形A和G 能 / 不能 ( 圈出答案) 拼出一個四邊形。

