

○ 練習 1-8

範疇	評估重點	題目	得分
度量	◇ 報時 ◇ 星期 ◇ 小時和時間間隔 ◇ 月份	1-7	/10
圖形與空間	◇ 立體圖形 ◇ 點、直線和曲線 ◇ 平面圖形	8-16	/15

**自我評估**

19-25分 

13-18分 

0-12分 

1. 下列哪一個時鐘顯示的時間是10時半？

○ A.



○ B.



○ C.










○ D.



2. 右圖顯示今天的日曆，明天是星期\_\_\_\_\_。



3. 以下是知味餐廳一星期的特價點心。

星期	日	一	二	三	四	五	六
點心							

今天的特價點心是 ，昨天是星期\_\_\_\_\_。

評分欄



4. 右圖顯示媽媽早上從家出發的時間。



(a) 媽媽的出發時間是\_\_\_\_\_。

(b) 媽媽在早上9時半到達機場。她從家到機場用了\_\_\_\_\_小時。

1分

1分

5.

四月						
日	一	二	三	四	五	六
	1	2	3	4	5	6
7	8	9	10	11	12	13
14	15	16	17	18	19	20
21	22	23	24	25	26	27
28	29	30				

(a) 四月的第二個星期日是\_\_\_\_\_月\_\_\_\_\_日。

(b) 可星逢星期三和星期六參加結他班，他四月份共有\_\_\_\_\_天參加結他班。

(c) 可星由四月十八日開始，一連三天因病住院，他缺席了\_\_\_\_\_月\_\_\_\_\_日的結他班。

1分

1分

1分

6. 音樂會預計在  開始，結果延遲了1小時，音樂

會實際的開始時間是\_\_\_\_\_。

1分

7. 北京十天遊學團將在\_\_\_\_\_月

\_\_\_\_\_日結束。

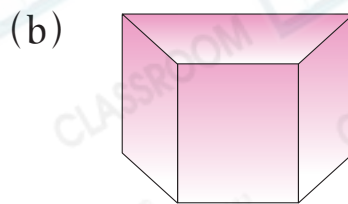

**北京十天遊學團**

★6月5日(星期一)

從香港機場出發

1分

8. 寫出以下各立體圖形的名稱。



\_\_\_\_\_

\_\_\_\_\_

9. 觀察下列的英文字母，並寫出所有答案。

**K P O N B**

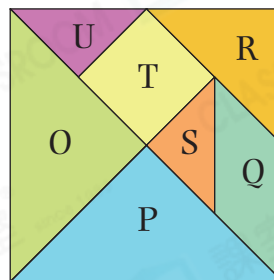
列出：

(a) 只用直線組成的英文字母：\_\_\_\_\_

(b) 用曲線和直線組成的英文字母：\_\_\_\_\_

10. 觀察右面的七巧板，以下哪一組圖形不可以拼出四邊形？



- A. U 和 S
- B. P 和 R
- C. Q 和 T
- D. O、T 和 S



11. 畫出指定的平面圖形。

(a) 三角形

(b) 五邊形



評分欄



1分



1分



1分



1分



1分




1分



1分

12.



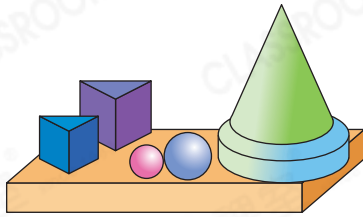
小狗想沿直線去吃骨頭，在上圖中畫出牠行走的路線。

13. 右圖中，

(a) 共有 \_\_\_\_\_ 個球。

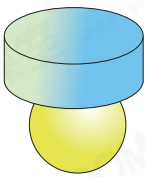
(b) \_\_\_\_\_ 的數目最多。

(c) 共有 \_\_\_\_\_ 個立體圖形能滾動。

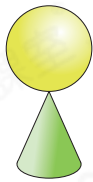


14. 依下列的疊放方式，哪一組立體圖形能平穩地疊起來？

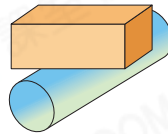
A.



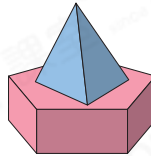
B.



C.



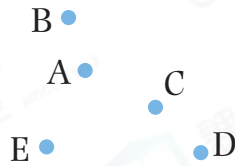
D.



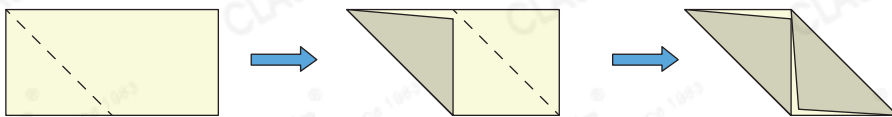
15. 右圖中，\_\_\_\_\_ 點和

\_\_\_\_\_ 點與其他三點

不在同一條直線上。



16.



志文把上面的手工紙沿虛線摺起來再打開，摺痕把手工

紙分成一個 \_\_\_\_\_ 形和兩個 \_\_\_\_\_ 形。

剔一剔

完成所有題目

已檢查答案