



日期：_____

成績：_____



算一算。

$$\begin{array}{r} 1. \quad 51 \\ + \quad 7 \\ \hline \end{array}$$

$$\begin{array}{r} 2. \quad 20 \\ + \quad 4 \\ \hline \end{array}$$

$$\begin{array}{r} 3. \quad 43 \\ + \quad 33 \\ \hline \end{array}$$

$$\begin{array}{r} 4. \quad 50 \\ + \quad 16 \\ \hline \end{array}$$



加油站

用直式計算加法時，首先個位相加，然後十位相加。

例

$$\begin{array}{r} 26 \\ + 32 \\ \hline 58 \end{array} \rightarrow \begin{array}{r} 26 \\ + 32 \\ \hline 58 \end{array}$$

個位相加 十位相加

5. $26 + 11 =$ _____

6. $64 + 25 =$ _____

7. $30 + 52 =$ _____

8. $40 + 10 =$ _____



列式計算下列各題。

9. 家中有4盒果汁，媽媽再買回一打，現在家中有果汁多少盒？



現在家中有果汁：_____ = _____ (盒)

10. 學校禮堂內有3名老師、36名女生和21名男生，即共有學生多少名？




共有學生：_____ = _____ (名)

11. 爸爸買了兩盒曲奇，共有曲奇多少塊？



共有曲奇：_____ = _____ (塊)



12. 以下哪一道算式的結果與「 $22 + 37$ 」的相同？

A. $17 + 41$

B. $34 + 23$

C. $26 + 30$

D. $9 + 50$


13. $37 + \square = 79$, $\square = ?$

A. 31

B. 32


C. 41

D. 42

14. 思敏用了 20 張 ，還餘下 6 張，她原有 _____ 張 .

15. 弟弟收到 54 封 ，比哥哥少收 25 封，哥哥收到  多少封？

(列式計算)

哥哥收到  :

得分重點

弟弟	54 封	25 封
哥哥	? 封	

16.



(a) 國豪買了兩包相同的糖果，他最少有 _____ 顆糖果。

(b) 柏慧買了兩包不同的糖果，她最多有 _____ 顆糖果。

17. 花店今天賣出 56 枝玫瑰，與百合相差 13 枝，今天最多賣出百合多少枝？

答案：_____ 枝