



日期：\_\_\_\_\_

成績：\_\_\_\_\_



## 算一算。

$$\begin{array}{r} 1. \quad 43 \\ + \quad 9 \\ \hline \end{array}$$

$$\begin{array}{r} 2. \quad 19 \\ + \quad 67 \\ \hline \end{array}$$

$$\begin{array}{r} 3. \quad 36 \\ \quad 13 \\ + \quad 34 \\ \hline \end{array}$$

4.  $48 + 17 =$  \_\_\_\_\_

5.  $66 + 17 =$  \_\_\_\_\_

6.  $11 + 24 + 9 =$  \_\_\_\_\_

7.  $57 + 12 + 28 =$  \_\_\_\_\_

8.  $33 + 25 + 17 =$  \_\_\_\_\_



三個數相加，若某兩個數之和是整十的數，可調換計算次序。

例  $3 + 26 + 14$  或  $3 + 26 + 14$   
 $= 29 + 14$        $= 3 + 40$   
 $= 43$                $= 43$



## 列式計算下列各題。

9. 一箱蘋果有26個，爸爸買了兩箱蘋果，共得蘋果多少個？



共得蘋果：\_\_\_\_\_ = \_\_\_\_\_ (個)

10. 停車場一樓有42輛汽車，二樓有38輛汽車，即共有汽車多少輛？



共有汽車：\_\_\_\_\_ = \_\_\_\_\_ (輛)

11. 巴士上原有37人，到站後有34人上車，但沒有人下車，現在巴士上共有多少人？



現在巴士上共有：\_\_\_\_\_ = \_\_\_\_\_ (人)

12. 下列哪一道算式的結果與其他的不同？

A.  $15 + 33 + 47$

B.  $33 + 47 + 15$

C.  $15 + 80$




D.  $38 + 47$

13. 在空格內填上正確的數字。

$$\begin{array}{r} \text{(a)} \quad \quad 7 \quad 2 \\ + \quad \square \quad 8 \\ \hline \quad 9 \quad \square \end{array}$$

$$\begin{array}{r} \text{(b)} \quad \quad \square \quad 6 \\ + \quad 2 \quad \square \\ \hline \quad 8 \quad 5 \end{array}$$

14. 妙可今年9歲，比媽媽小28歲，媽媽今年\_\_\_\_\_歲。

15. 姊姊有36枝 ，妹妹有18枝 。姊姊給了妹妹12枝後，妹妹有  多少枝？(列式計算)

妹妹有  :

16. 文軒每天喝一盒牛奶，一星期後餘下25盒牛奶，即原有\_\_\_\_\_盒牛奶。

 17.  進階

班別	1A	1B	1C
學生人數	29	25	27

(a) 人數較多的兩個班共有\_\_\_\_\_人。

(b) 旅遊巴士有53個座位，足夠給哪兩個班的所有學生入座？

答案：\_\_\_\_\_班和\_\_\_\_\_班