



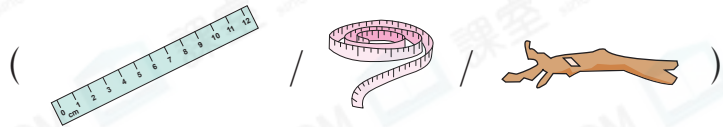
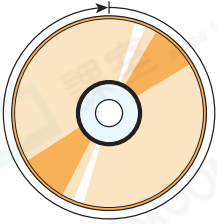
日期：_____

成績：_____

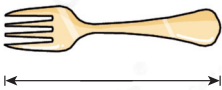


圈出適合的量度工具。

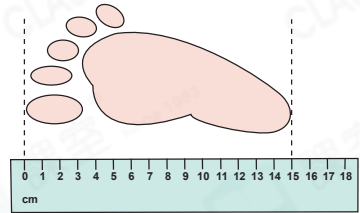
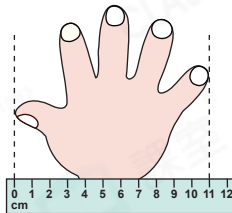
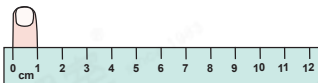
1.



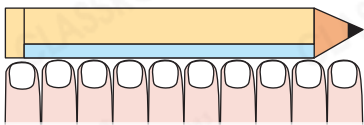
2.



量一量。



3.




鉛筆的長度約是：

$$1 + 1 + 1 + 1 + 1 + 1 + 1 + 1 + 1 + 1$$

$$= \underline{\hspace{2cm}} \text{ (cm)}$$

4.




風扇的闊度約是：

$$\underline{\hspace{2cm}} + \underline{\hspace{2cm}} + \underline{\hspace{2cm}}$$

$$= \underline{\hspace{2cm}} \text{ (cm)}$$

5.

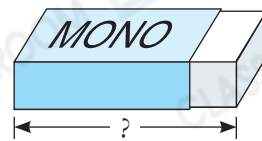


雲石的長度約是：



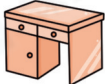

$$\underline{\hspace{2cm}}$$





$$= \underline{\hspace{2cm}} \text{ (cm)}$$




6. 以下哪一項最適合用來量度右面擦膠的長度？





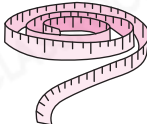
7. 敏儀用指距量度了家中各家具的長度，結果如下：

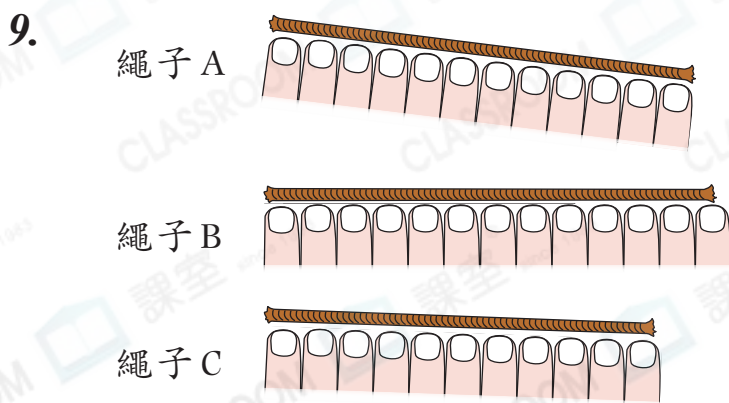
	長 10 個 
	長 6 個 

	長 4 個 
	長 7 個 

(a)  和  的長度相差 _____ 個 。

(b) 敏儀的指距是 。最短的家具長 _____ cm。

8.  /  較適合用來量度圍繞人的大腿一圈的長度。(★圈出答案)



比較上圖三條繩子的長度，最長的是繩子 ★ A / B / C。(★圈出答案)