

# 複習一

● 1 上課題



日期：\_\_\_\_\_



成績：\_\_\_\_\_ /17



時限： 20分鐘

範疇	評估重點	題目	得分
數	◇ 100 以內的數 ◇ 單數和雙數 ◇ 加法和減法 ◇ 次序和數量 ◇ 順數和倒數 ◇ 0 的認識	1-10 , 12(a)	/14
圖形與空間	◇ 位置	11 , 12(b)	/3



自我評估

13-17分

9-12分

0-8分

1. 在 52 這個數裏，

(a) 十位數字是\_\_\_\_\_，個位數字是\_\_\_\_\_。

(b) 數字「5」所代表的數值是\_\_\_\_\_。

2. 把下列各數由大至小排列出來。

23 , 12 , 64

答案：\_\_\_\_\_，\_\_\_\_\_，\_\_\_\_\_

(最大)  (最小)

3.



(a) 上面共有\_\_\_\_\_枚萬字夾。

(b) \_\_\_\_\_和 4 合成\_\_\_\_\_。

4.  $14 - 9 =$  \_\_\_\_\_

5.  $7 + 5 =$  \_\_\_\_\_

6.  $8 - 0 =$  \_\_\_\_\_

7.  $3 + 6 =$  \_\_\_\_\_  $+ 3$

評分欄



1分



1分



1分



1分



1分



1分



1分



1分




1分

8. 圈出所有雙數。



9. 由 32 開始倒數，第三個數是\_\_\_\_\_。

10.




原有 6 隻小鳥，飛走 2 隻，餘下小鳥多少隻？(列式計算)

餘下小鳥：

\_\_\_\_\_ ○ \_\_\_\_\_  
 \_\_\_\_\_ (隻)


11. (a)  在最\_\_\_\_\_面。

(b)  在最\_\_\_\_\_面。



12.



(a)  排第\_\_\_\_\_。

(b)  在  的\_\_\_\_\_面。

1分

1分

1分

1分

1分

1分

1分

1分