



日期：_____

成績：_____ /28

時限： 30分鐘

○ 練習 9 - 15

範疇	評估重點	題目	得分
數	◇ 加法 ◇ 加減應用題	1 - 11	/15
度量	◇ 厘米和厘米尺 ◇ 量度長度的工具 ◇ 香港的硬幣	12 - 20	/13

自我評估

22-28分

15-21分

0-14分

- $26 + 18 =$ _____
- $19 + 27 + 23 =$ _____
- $53 - 11 =$ _____
- (a) 兩箱橙共有 _____ 個。
(b) 一箱蘋果比一箱橙少 12 個，
一箱蘋果有 _____ 個。



- 明慧有 34 元，明莉有 56 元，以下哪一道算式可以計算出兩人有的款項相差多少元？
 A. $34 - 56$ B. $56 - 34$
 C. $34 + 56$ D. $56 + 34$
- 小慧在一次英文小測中得 53 分，還差 7 分便是滿分。
英文小測滿分是多少分？(列式計算)

英文小測滿分是：

評分欄



1分



1分



1分



1分



1分



1分



1分



1分

7. 弟弟計劃26天讀完一本書，但實際上比計劃多用了
一星期，他讀完這本書用了_____天。

1分

8. 李太太帶同13歲的兒子去
參觀博物館，他們共須付入
場費_____元。

1分

博物館入場費

成人 每位35元
小童(12歲或以下) 每位25元

9. 桌子的高度是98厘米，比椅子高12厘米。椅子高多少
厘米？(列式計算)

椅子高：

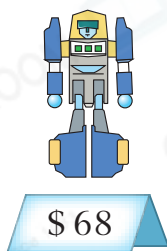
1分

1分

10. 老師有一包手工紙，送了34張給學生，還剩16張，這
包手工紙原有_____張。

1分

11.



德新有95元。



(a) 他買了一個最便宜的玩具後，餘下_____元。




1分

(b) 德新想用餘下的款項多買一個機械人給弟弟，他

★ 還欠 / 剩餘 (★ 圈出答案) _____元。

1分

12. (a) 1個  可換得 _____ 個  。

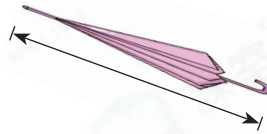
(b) 1個  可換得 _____ 個  和 _____ 個  。

13. 以下哪一件物件的長度不適合用  來量度？

A.



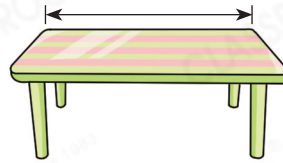
B.



C.



D.



14. 以下是樂怡乘坐渡輪所付的費用：



(a) 她用了 _____ 個 1 元硬幣付款。

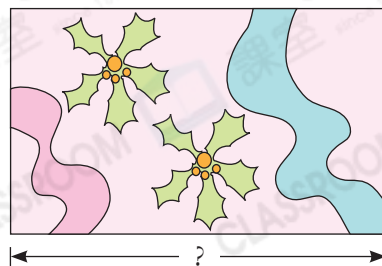
(b) 她付了 _____ 元 _____ 角。

15. 右面是志明的貼紙。

(a) 貼紙的長度是 _____ cm。

(b) 貼紙的長度比闊度長多少？

答案：_____ cm



1分

1分

1分

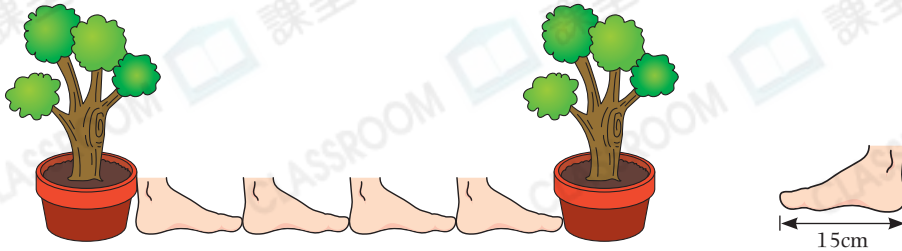
1分

1分

1分


1分

16.



兩盆盆栽相距_____厘米。

17. (a) 一件三文治售_____元_____角。



(b) 莎莉付



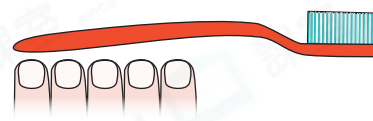
購買一件三文治。

\$6.60

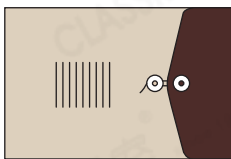
圈出店員須找回的金額。



18. 牙刷約長_____個




19.



30cm


紙袋



18cm

32cm

畫紙A



20cm

24cm

畫紙B

畫紙★ A / B (★圈出答案)能完全放進紙袋內。

20. 少偉最少付了_____個



和

_____個



剛好可購買一盒紙



\$8.20

巾而不用找贖。



刷一刷

- 完成所有題目
- 已檢查答案



1分



1分



1分



1分



1分



1分