

應用題訓練一

○ 加法 ○ 基本減法



日期：_____

成績：_____

1.

老師



1B班有20名男生和15名女生。



1B班有學生多少名？

1B班有學生：

$$\begin{array}{l} \underline{\hspace{2cm}} \bigcirc \underline{\hspace{2cm}} \\ = \underline{\hspace{2cm}} \text{ (名)} \end{array}$$

圖解

男生	20名	} ?名
女生	15名	

2. 媽媽買了15件 ，吃了半打，還餘下  多少件？

還餘下 ：


$$\begin{array}{l} \underline{\hspace{2cm}} \bigcirc \underline{\hspace{2cm}} \\ = \underline{\hspace{2cm}} \text{ (件)} \end{array}$$

提示

「半打」即有6件西餅。

3. 偉華吃了23粒 ，偉強比偉華多吃8粒。


(a) 偉強吃了  多少粒？

偉強吃了 ：

$$\begin{array}{l} \underline{\hspace{2cm}} \bigcirc \underline{\hspace{2cm}} \\ = \underline{\hspace{2cm}} \text{ (粒)} \end{array}$$

圖解

偉華	23粒	} 8粒
偉強	?粒	

(b) 兩人共吃了 _____ 粒 。


4. 一輛旅遊巴士上有 36 名乘客，還餘 22 個空位，這輛旅遊巴士共可載乘客多少名？

這輛旅遊巴士共可載乘客：

$$\underline{\hspace{2cm}} \bigcirc \underline{\hspace{2cm}}$$

$$= \underline{\hspace{2cm}} \text{ (名)}$$

圖解



5. 自修室原有 46 張椅子，今天增加了 14 張椅子和 7 張桌子。
(a) 自修室現有椅子多少張？

自修室現有椅子：

$$\underline{\hspace{2cm}} \bigcirc \underline{\hspace{2cm}}$$


$$= \underline{\hspace{2cm}} \text{ (張)}$$

提示

現有的
= 原有的 + 增加的

- (b) 增加的椅子比桌子多 _____ 張。

6. 志偉收集了 47 枚 ，比志傑少 28 枚，志傑收集了  多少枚？

志傑收集了 ：

$$\underline{\hspace{2cm}} \bigcirc \underline{\hspace{2cm}}$$

$$= \underline{\hspace{2cm}} \text{ (枚)}$$

提示

「比志傑少」即志傑收集的郵票數量比志偉的多。

7. 一箱粉筆，用了半箱，餘下 18 盒，這箱粉筆原有多少盒？

這箱粉筆原有：

$$\underline{\hspace{2cm}} \bigcirc \underline{\hspace{2cm}}$$

$$= \underline{\hspace{2cm}} \text{ (盒)}$$

提示

一箱 = 半箱 + 半箱