

應用題訓練二

○ 加法 ○ 減法

日期：_____

成績：_____

1.




進威

我原有 38 粒 。

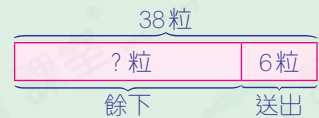
進威送給朋友 6 粒  後，還餘下  多少粒？

還餘下 ：


_____  _____


= _____ (粒)

圖解



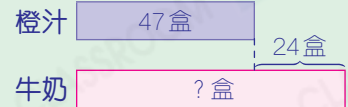
2. 便利店有 47 盒 ， 比  多 24 盒，便利店有  多少盒？

便利店有 ：

_____  _____

= _____ (盒)

圖解



3.



比較一包牛丸和一包魚蛋的數量，相差多少粒？

相差：

_____  _____

= _____ (粒)

提示

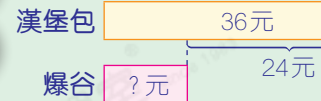
先判斷哪個是被減數，哪個是減數。

4. 一個漢堡包售 36 元，一個漢堡包比一份爆谷貴 24 元。一份爆谷售多少元？

一份爆谷售：

$$\begin{array}{r} \underline{\hspace{2cm}} \bigcirc \underline{\hspace{2cm}} \\ = \underline{\hspace{2cm}} \text{ (元)} \end{array}$$

圖解



5. 下表是志欣三次數學測驗的成績。

測驗	第一次	第二次	第三次
成績	81 分		88 分

- (a) 志欣第三次數學測驗的成績比第二次退步了 4 分，她第二次數學測驗得了多少分？

她第二次數學測驗得了：

$$\begin{array}{r} \underline{\hspace{2cm}} \bigcirc \underline{\hspace{2cm}} \\ = \underline{\hspace{2cm}} \text{ (分)} \end{array}$$

提示

選出有用的數據，再判斷用加法還是減法。

- (b) 志欣第二次數學測驗的成績比第一次高 _____ 分。

6. 張太太買了兩盒雞蛋。


- (a) 她共買了 _____ 隻雞蛋。

- (b) 她付了 50 元，應找回多少元？

應找回：

$$\begin{array}{r} \underline{\hspace{2cm}} \bigcirc \underline{\hspace{2cm}} \\ = \underline{\hspace{2cm}} \text{ (元)} \end{array}$$

兩盒特價 30 元



每盒 21 元

提示

留意關鍵字眼「兩盒特價」。