

# 考試

日期：\_\_\_\_\_

成績：\_\_\_\_\_ /43

時限： 40分鐘

## 練習 1 - 15

範疇	評估重點	題目	得分
數	◇ 加法                      ◇ 減法	1 - 9	/13
度量	◇ 報時和時間間隔      ◇ 星期和月份 ◇ 厘米和量度工具      ◇ 香港的硬幣	10 - 17 , 22(c)	/15
圖形與空間	◇ 點、直線和曲線 ◇ 立體圖形                      ◇ 平面圖形	18 - 22(b) , 23 - 24	/15

### 自我評估

33-43分 

22-32分 

0-21分 

1.  $36 + 59 =$  \_\_\_\_\_

2.  $22 + 47 + 18 =$  \_\_\_\_\_

3.  $64 - 31 =$  \_\_\_\_\_

4. 媽媽付75元買一束玫瑰，應找回多少元？

答案：\_\_\_\_\_ 元



5. 英文測驗中，1B班有5人不及格，有27人及格，1B班共有\_\_\_\_\_人。

6. 活動室有48個座位，共有2名老師和38名學生入座。

(a) 活動室共有\_\_\_\_\_人。

(b) 所有人入座後，餘下空位多少個？(列式計算)

餘下空位：

評分欄



1分



1分



1分



1分



1分



1分



1分



1分

7.

心心糖果屋收據		
貨品	原價	特價
棉花糖	35元	28元
棒棒糖	18元	8元
總金額：		

上圖是一張購物收據。

(a) 棒棒糖便宜了\_\_\_\_\_元。

(b) 特價後，總金額是\_\_\_\_\_元。

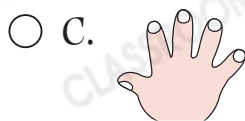
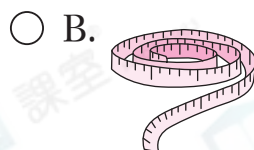
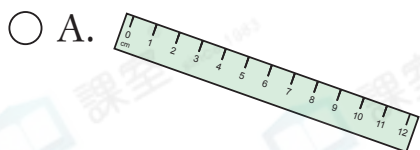
8. 妹妹有26張書簽，哥哥送給她15張後，兩人有的書簽一樣多，哥哥現有書簽多少張？(列式計算)

哥哥現有書簽：

9. 書架上有79本書，其中漫畫有21本，小說有33本，漫畫比小說少多少本？

答案：\_\_\_\_\_本

10. 下列哪一項最適合用來量度圍繞手臂一圈的長度？



11. 弟弟有以下的款項。



(a) 弟弟有 \_\_\_\_\_ 元 \_\_\_\_\_ 角。

(b) 弟弟把所有  兌換成  後，他共有 \_\_\_\_\_ 個  。

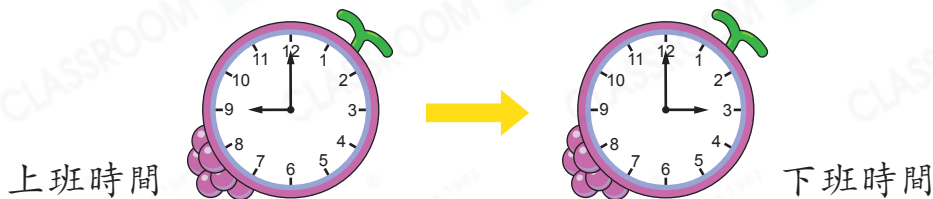


1分



1分

12. 以下是表姊星期六兼職的上班時間和下班時間。



(a) 表姊在1時吃午餐，當時距離下班還有 \_\_\_\_\_ 小時。

(b) 表姊下班後立即回家，因路上塞車，她用了2小時才回到家，她回到家的時間是 \_\_\_\_\_ 。



1分



1分

13. 以下是曼語錢包內的所有款項。



(a) 曼語購買了一盒巧克力棒。圈出她應付的金額。

(b) 曼語購買一盒巧克力棒後，還餘下 \_\_\_\_\_ 元 \_\_\_\_\_ 角。



1分



1分

14.

十月						
日	一	二	三	四	五	六
			1	2	3	4
5	6	7	☀	☀	☀	☀
12	13	14	15	16	17	18
19	20	21	22	23	24	25
26	27	28	29	30	31	



(a) 10月3日是星期\_\_\_\_\_。

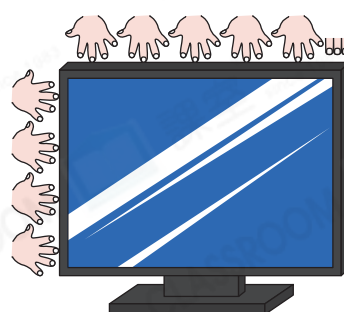
(b) 這個月的最後一個星期六是浩然的生日，那天是\_\_\_\_\_月\_\_\_\_\_日。

(c) 王先生從10月7日開始休假三天，他將在\_\_\_\_\_月\_\_\_\_\_日恢復上班。

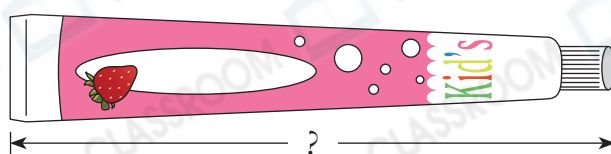
(d) 這個月共有\_\_\_\_\_個星期日。



15. 每個  長12cm，每個  長1cm。電視機的長和闊相差\_\_\_\_\_cm。



16. 用尺子量度下圖兒童牙膏的長度。



兒童牙膏的長度是\_\_\_\_\_。(答案須寫上單位)

17. 美食展由本星期五起，連續舉行10天，美食展最後一天是星期幾？

答案：星期\_\_\_\_\_

18.



A



B

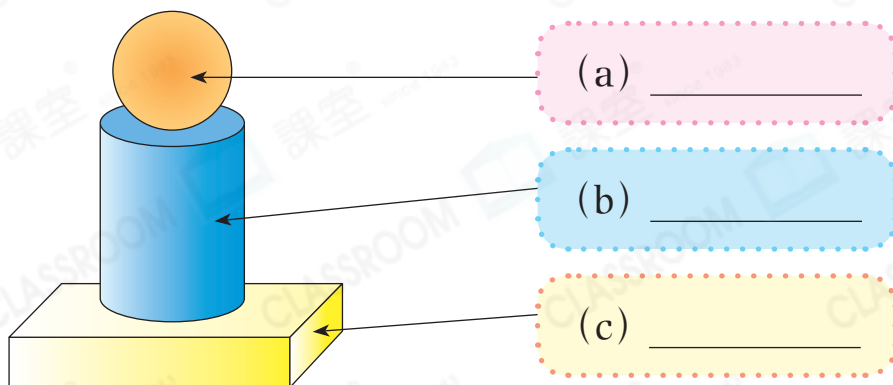


C

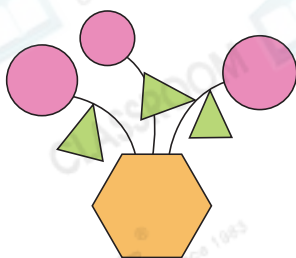
根據下表對上面各圖案的描述，把代表圖案的英文字母寫在橫線上。

	直線	曲線
(a) 圖案_____	X	✓
(b) 圖案_____	✓	X
(c) 圖案_____	✓	✓

19. 下面的擺設是由不同的立體圖形組成。在空格內寫上它們的名稱。



20.



軒文用不同的平面圖形拼砌了一幅畫。

(a) 左圖有\_\_\_\_\_個圓形。

(b) 左圖有\_\_\_\_\_個六邊形。



1分



1分



1分



1分



1分



1分



1分

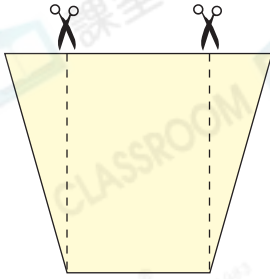


1分




1分

21.



沿着虛線把左面的手工紙剪開後，  
可得到一個\_\_\_\_\_形和兩個  
\_\_\_\_\_形。

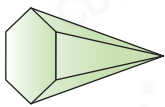
22. (a) 用直線把B、C和D三點連起來，  
可畫出\_\_\_\_\_條直線。



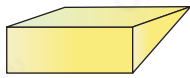
(b) 用直線順序把A點、B點、C  
點、E點、A點連起來，可畫  
出一個\_\_\_\_\_形。

(c) 用尺子量度(b)部分畫出的平面圖形最短一邊的長  
度，這條邊的長度約是\_\_\_\_\_cm。

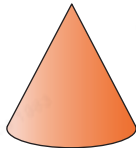
23. 觀察下列立體圖形，寫出所有代表答案的英文字母。




A



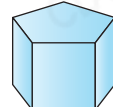
B



C



D

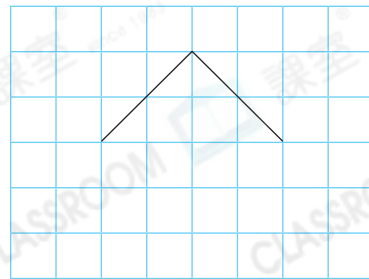


E

(a) 角錐：\_\_\_\_\_

(b) 角柱：\_\_\_\_\_

24. 在右圖中加上直線，與原有的  
直線組成一個五邊形。



剔一剔

- 完成所有題目
- 已檢查答案



1分



1分



1分



1分



1分



1分



1分



1分