

思維遊樂場



詳盡提示
加答案

找規律

1. 將星星依以下規律排列。第十六橫行至第十八橫行共有星星多少顆？



解題提示

每一橫行星星數目的規律如下：

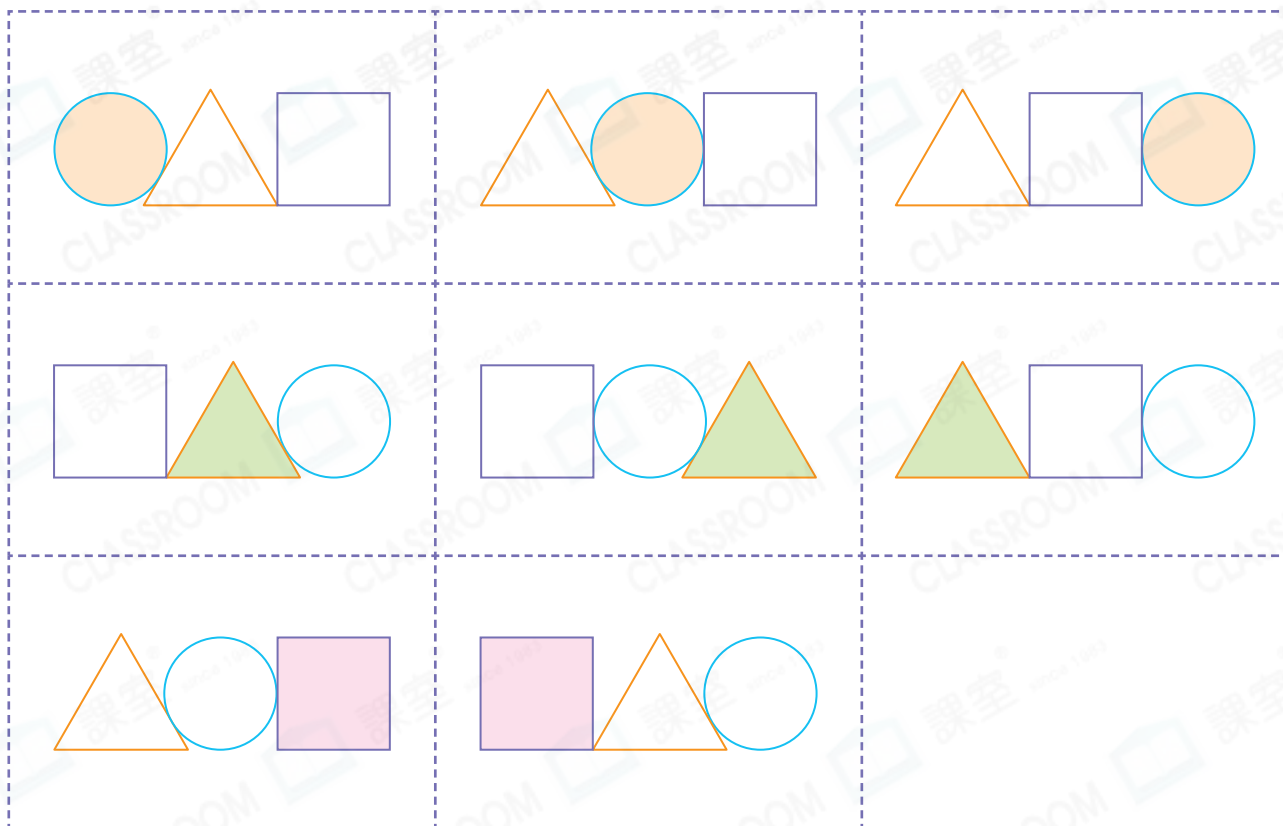
第一橫行	第二橫行	第三橫行	第四橫行	第五橫行	……
1 顆	3 顆	5 顆	7 顆	9 顆	……

答案

第十六橫行至第十八橫行共有 _____ 顆星星。





2. 依規律在空格內畫出適當的平面圖形。



解題提示

- ① 每格都有一個圓形、一個三角形和一個四邊形，所以最後一個空格也應有這三種圖形各一個。
- ② 每一橫行都有一個着色圖形。
- ③ 觀察每一橫行着色圖形出現的位置，從而找出規律。

第一橫行  出現的規律：最左→中間→最右

第二橫行  出現的規律：中間→最右→最左