

# 2



## 小時和時間間隔

日期：\_\_\_\_\_

成績：\_\_\_\_\_



在\_\_\_\_\_上寫出答案。

1.



少平行山用了\_\_\_\_\_小時。

2.



珍珍和媽媽在公園逗留了\_\_\_\_\_小時。

在下表中填寫電影《動物樂園》的結束時間。

| 場次     | 開始時間 | 結束時間  |
|--------|------|-------|
| 3. 第一場 |      | _____ |
| 4. 第二場 |      | _____ |

電影《動物樂園》  
片長2小時。

5. 以下是詠怡參加游泳班的時間。



開始時間



結束時間

(a) 詠怡的游泳班共上課\_\_\_\_\_小時。

(b) 詠怡在上課期間不小心滑倒了，以下哪一個可能是她滑倒的時間？

A. 2時半

B. 4時半

C. 6時

D. 6時半


6. 右圖顯示妙玲生日會的開始時間。生日會在5小時後結束，那時是\_\_\_\_\_。




7. 以下是海獅表演的開始時間。



第一場



第二場



第三場



第四場

(a) 海獅表演每\_\_\_\_\_小時一場。

(b) 每場表演長1小時，第四場表演的結束時間是\_\_\_\_\_。

8.



秀容生病了，須每4小時服一次藥，左圖顯示她第一次服藥的時間。她第三次服藥的時間是\_\_\_\_\_。

\_\_\_\_\_。