

# 5

## 立體圖形



日期：\_\_\_\_\_

成績：\_\_\_\_\_

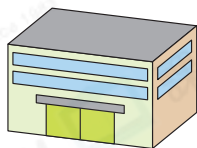


把物件和相似的立體圖形連起來。


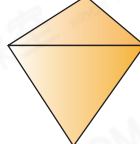
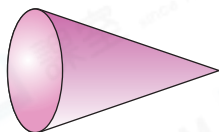
1.



2.

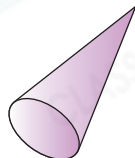
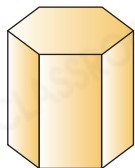


3.



圈一圈。

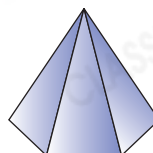
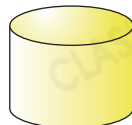

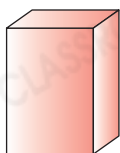
4. 有尖頂的立體圖形：



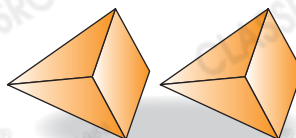
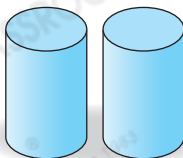

STEM 百科

地球和月球都近似球，  
從地球看向月球，只能  
看到月球的部分表面。

5. 能滾動的立體圖形：

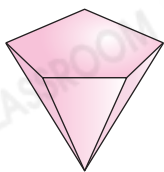


6. 兩個能疊得穩的立體圖形：

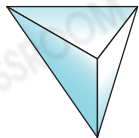


7. 以下哪一個立體圖形不是角錐？

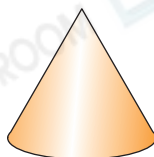
○ A.



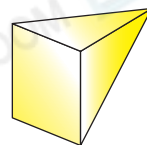
○ B.



○ C.



○ D.



8. 寫出以下各立體圖形的名稱。

(a)



\_\_\_\_\_

(b)



\_\_\_\_\_

9. 根據指示，寫出所有代表答案的英文字母。

A



B



C



D



E



列出：

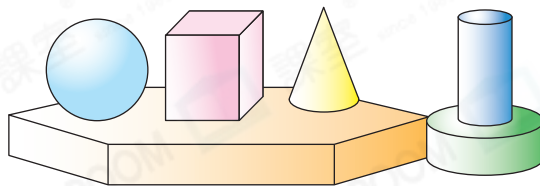
(a) 角柱：\_\_\_\_\_

(b) 球：\_\_\_\_\_

得分重點

留意答案可能有多個。

10.



上圖中，

(a) 共有\_\_\_\_\_個圓錐。

(b) \_\_\_\_\_和圓柱的數量相同。

11. 把右面的兩罐嬰兒奶粉整齊地疊起來，會形成哪種立體圖形？

答案：\_\_\_\_\_

