


# 6

## 點、直線和曲線



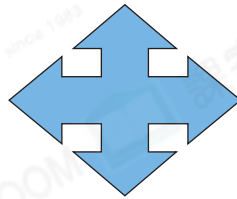
以下圖形是由哪些線組成的？圈出答案。

1.




( 直線 / 曲線 )

2.




( 直線 / 曲線 )

3.



( 直線 / 曲線 )

4.

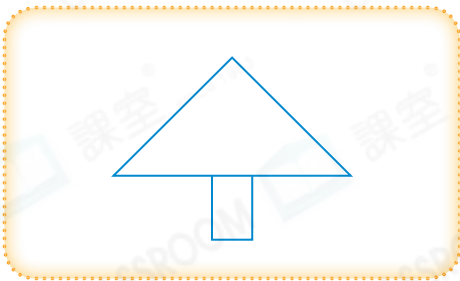


( 直線 / 曲線 )



畫一畫。

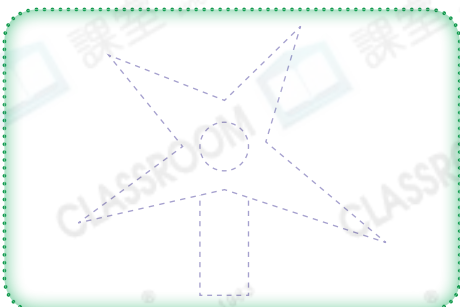
5. 把聖誕樹的頂標示出來




6. 把以下兩點用曲線連起來



7. 沿虛線畫出所有直線




8. 沿虛線畫出所有曲線





9. 右圖中，三條直線相交，相交的點共有多少個？

答案：\_\_\_\_\_ 個



10. 根據指示，寫出所有代表答案的英文字母。



列出：

(a) 只由直線組成的圖案：\_\_\_\_\_

(b) 只由曲線組成的圖案：\_\_\_\_\_

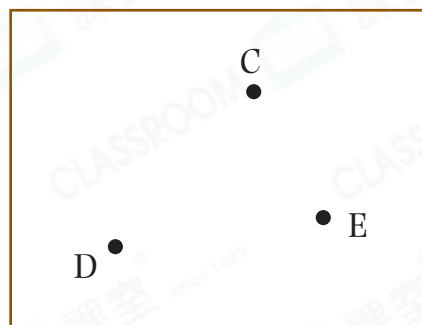
(c) 由直線和曲線組成的圖案：\_\_\_\_\_

11. 連接兩點，可畫出★ 一條 / 無限條 (★圈出答案) 直線。

12. 用直線把 C、D 和 E 三點連起來。

(a) 最多可畫出\_\_\_\_\_ 條直線。

(b) 在圖中多加一點 F，並用直線把它和另外三點連起來，最多可加畫\_\_\_\_\_ 條直線。



腦力挑戰站



詳盡提示

右面有 21 個藍點，用直線把它們連起來，不可以用斜線連接，而每個點只可以通過一次。

