

第一次小測 (1下數學科)

姓名：

日期：



班別： ()

成績： /10

時限： 15分鐘

(範圍：練習1-4)

一、填時間。(2分)



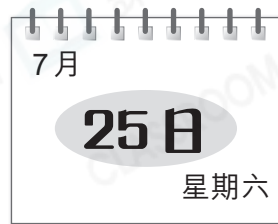
二、填一填。(3分)

四月						
日	一	二	三	四	五	六
			1	2	3	4
5	6	7	8	9	10	11
12	13	14	15	16	17	18
19	20	21	22	23	24	25
26	27	28	29	30		


1. 這個月的第一天是星期_____。
2. 今天是4月11日，一個星期後是_____月_____日。
3. 學校由四月二十日至四月二十三日舉行籃球賽。籃球賽共舉行_____天。

三、回答下列各題。(5分)

1. 右圖顯示的是今天的日曆，昨天是_____月_____日。



2. 左圖鐘面顯示的是現在的時間，1小時後是_____。



3. 以下是爸爸一星期的運動安排。


星期	日	一	二	三	四	五	六
運動	跑步	/	足球	/	/	游泳	/

爸爸昨天踢足球，那麼明天是星期_____。

4. 以下是宇峰進入和離開公園的時間。



進入公園



離開公園

宇峰在公園逗留了_____小時。

5. 花店在10時半開門，英敏在_____到達花店，她在花店開門前_____小時到達。

