

# 第二次小測 (1下數學科)

姓名：

日期：

班別：  ( )

成績：  /14

時限： 15分鐘

(範圍：練習5-8)

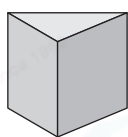
一、根據提示，寫出所有代表答案的英文字母。(2分)



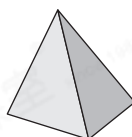
A



B



C



D



E

1. 圓錐： \_\_\_\_\_

2. 角柱： \_\_\_\_\_

二、畫一畫。(4分)

1. 直線



2. 曲線



3. 三角形




4. 六邊形



三、回答下列各題。(8分)

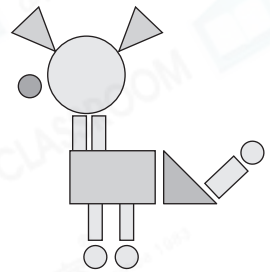
1. 用直線把右圖的四點連起來，最多可畫出\_\_\_\_\_條直線。



2. 志傑用平面圖形拼砌了一幅畫。

(a) 右圖有\_\_\_\_\_個圓形。

(b) 右圖有\_\_\_\_\_個三角形。



3.



P



Q



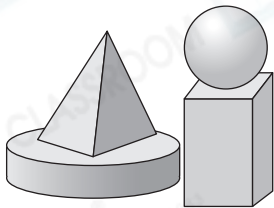
R



S

上圖中，圖\_\_\_\_\_只由曲線組成。

4.



(a) 圓柱的上面是哪種立體圖形？

答案：\_\_\_\_\_

(b) 共有\_\_\_\_\_個立體圖形能滾動。

5. (a) 右圖是一個\_\_\_\_\_形。

(b) 沿虛線剪開後，可得到\_\_\_\_\_形和\_\_\_\_\_形。

