

第四次小測 (1下數學科)

姓名：

日期：

班別： ()

成績： /13

時限： 15分鐘

(範圍：練習 13 – 15)

一、量一量。(4分)

1. _____ cm 

2. _____ cm 

3. _____ cm 

4. 以上三條繩子中，最長和最短的相差 _____ cm。

二、圈出指定金額的硬幣。(3分)

1. 10元



2. 9角




3. 6元2角



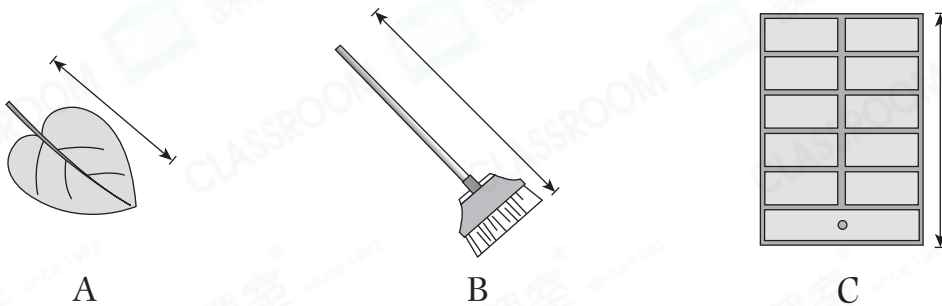
三、回答下列問題。(6分)

1.




上面的鉛筆長_____厘米。

2.



 最適合用來量度上面物件_____的長度。

3. (a) 1個  可換得_____個  。

(b) 2個  和 1個  可換得_____個  。

4. (a) 一罐可樂的售價是多少？

答案：_____元_____角



(b) 玲玲買一罐可樂。圈出她應付的金額。

