

7

秒

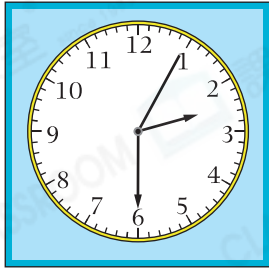


日期：_____

成績：_____

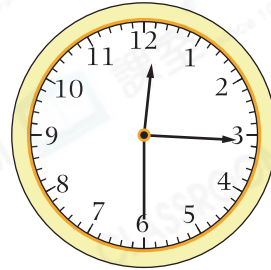
**寫出鐘面顯示的時間。**

1.



_____ 時 _____ 分 _____ 秒

2.



_____ 時 _____ 分 _____ 秒

3.



_____ 時 _____ 分 _____ 秒

4.



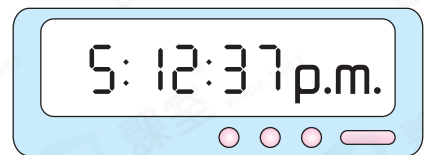
_____ 時 _____ 分 _____ 秒

**寫出時間間隔。**

5.



開始時間



結束時間

過了 _____ 秒。

6.



開始時間



結束時間

過了 _____ 秒。

7. 在橫線上填上適當的時間單位。

(a) 一堂中文課的時間約是 35 _____。


(b) 升降機從 1 樓升至 10 樓約需要 8 _____。

8. 李小姐在  開始加熱一件三文治。

(a) 開始加熱的時間是下午 _____ 時 _____ 分 _____ 秒。

(b) 完成加熱的時間是下午 2 時 6 分 15 秒。李小姐加熱一件三文治共用了 _____ 秒。

9.




家慧參加了 200 米賽跑。左面的秒錶顯示了第一名完成比賽所用的時間，家慧比第一名慢 2 秒，即她用了 _____ 秒完成比賽。

得分重點

⊕ 「慢」即所用的時間較多。

10.



時鐘 A



時鐘 B

時鐘 A 和時鐘 B 分別顯示 家俊和 志豪昨天下午到達觀星台的時間。家俊比 志豪 早 / 遲 (圈出答案) _____ 秒到達觀星台。

11. 右表是闖關比賽首 3 名參賽者完成比賽所用的時間。

(a) 第一名比第三名快 _____ 秒。

(b) 比賽在 2:15 p.m. 開始，啟文在 _____ 午 _____ 時 _____ 分 _____ 秒完成比賽。

參賽者	所用時間
<u>卓</u> 林	53 秒
<u>啟</u> 文	1 分鐘
<u>俊</u> 業	49 秒