

5. 用中國數字寫出「31200」這個數。

答案：_____

6. $18 \times 7 =$ _____

7. $129 \times 6 =$ _____

8. $25 \times 3 \times 8 =$ _____

9. 一箱原子筆有24盒，每盒有8枝。

(a) 購入5箱原子筆，即共購入_____盒。

(b) 售出3箱原子筆，即共售出_____枝。

10. 雪芬報讀一個為期半年的素描班，每月的學費是950元。她共須付學費多少元？(列式計算)

11. 秀雯每天乘港鐵上學的車費是11元5角，她一星期上學五天，總車費是_____元_____角。

12. 玩具店內有5個貨架，每個貨架有4層，每層放了25輛玩具車。貨架上共有玩具車多少輛？(列式計算)



1分



1分



1分



1分



1分



1分



1分



1分



1分



1分



1分



1分



1分

13. (a) 右圖的時鐘顯示志鋒在上午
 _____ 時 _____ 分
 _____ 秒開始錄像。



(b) 他在  結束錄像，共用了 _____ 秒。

14.

開始時間    結束時間

上面的數字鐘顯示一則洗衣液廣告播放的開始和結束時間，這則廣告共播放了 _____ 秒。

15. 右圖是素食餐廳每日供應素食自助午餐的宣傳單。

45分鐘素食自助午餐

每人只需88元
(大小同價)

中午12時至下午2時供應

*45分鐘用餐時間
以入座時間計算



(a) 素食自助午餐每日供應時段長 _____ 小時。

(b) 爺爺和三位朋友在 12:35 p.m. 入座，他們最遲須在下午 _____ 時 _____ 分結賬。

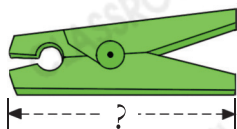
(c) 他們共須付 _____ 元。

16.



左圖顯示嘉樂完成50米游泳所用的時間。子豪完成50米游泳所用的時間是1分鐘。嘉樂比子豪  快 / 慢 ( 圈出答案) 了 _____ 秒。

17.



用尺子量度衣夾的長度。衣夾的長度是 _____ mm。

18. 在下列各項填上適當的長度單位。

- (a) 一座城堡高約 20 _____。
- (b) 一隻辣椒長約 40 _____。
- (c) 一條過山車路軌長約 3 _____。
- (d) 一枚中國象棋棋子高約 11 _____。

19. 以下哪一項最適合用「毫米」作為量度單位？

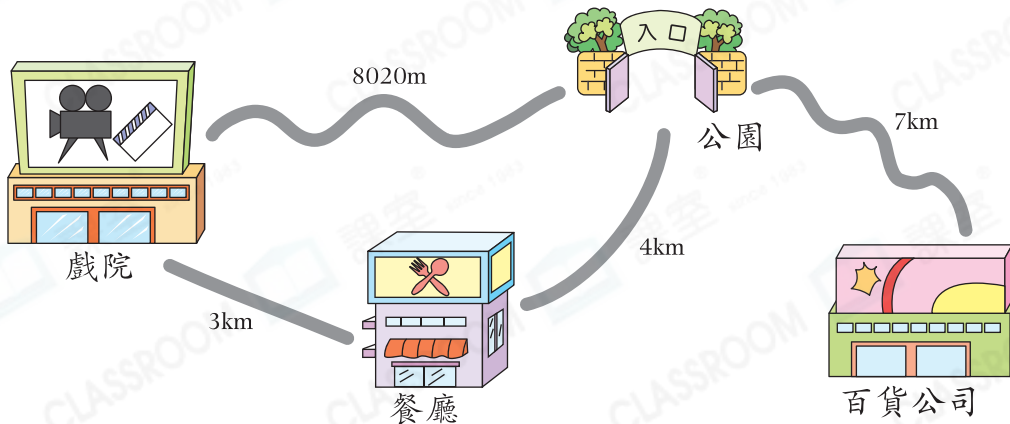
- A. 杯子的高度 B. 擦膠的長度
- C. 筷子的長度 D. 藥丸的厚度

20. 用尺子量度下面的紙條。



上圖的紙條長 _____ 毫米，它的長度與一條長 15 厘米的紙條相差 _____ 毫米。

21.



- (a) 從公園到★戲院 / 餐廳 / 百貨公司 (★圈出答案) 的路程最短。
- (b) 從公園經餐廳前往戲院需要走 _____ m。
- (c) 從戲院前往百貨公司，最短的路程要走 _____ km。

別一別

完成所有題目

已檢查答案