



日期：\_\_\_\_\_

成績：\_\_\_\_\_

計算下列各題。

1.

$$2 \overline{) 84}$$

2.

$$5 \overline{) 65}$$

3.  $39 \div 3 =$  \_\_\_\_\_

4.  $72 \div 6 =$  \_\_\_\_\_

5.  $90 \div 8 =$  \_\_\_\_\_

6.  $88 \div 5 =$  \_\_\_\_\_



計算除法後，可以利用乘法作驗算。

例  $52 \div 4 = ?$ 

$$\begin{array}{r} 13 \\ 4 \overline{) 52} \\ \underline{4} \phantom{0} \\ 12 \\ \underline{12} \\ 0 \end{array}$$

$$\begin{array}{r} \text{驗算} \\ 13 \\ \times 4 \\ \hline 52 \end{array}$$

列式計算下列各題。

7. 三甲班有 28 人，每 2 人分成一組，共分成多少組？



共分成：\_\_\_\_\_

8. 四人合資購買一部價值 92 元的玩具車，平均每人須付多少元？



平均每人須付：\_\_\_\_\_

9. 媽媽把 73 枚郵票平均分給 3 個孩子，每個孩子分得多少枚？餘下多少枚？



每個孩子分得\_\_\_\_\_枚，餘下\_\_\_\_\_枚。


10. 有 85 件壽司，每個碟子裝 6 件，最多可裝多少碟？餘下多少件？



最多可裝\_\_\_\_\_碟，餘下\_\_\_\_\_件。

11. 47除以3，商是\_\_\_\_\_，餘數是\_\_\_\_\_。
12. 鞋店售出65雙皮鞋，皮鞋的銷量是運動鞋的5倍，即售出\_\_\_\_\_雙運動鞋。
13. 一包手工紙有98張。老師一星期用完這包手工紙，她平均每天用手工紙\_\_\_\_\_張。
14. 嘉欣有57個\$1硬幣，她最多可兌換\_\_\_\_\_個\$5硬幣。
15. 學校舉行回收電池換領印花計劃。每收集9粒電池，可得一個印花。志輝收集了99粒電池，他可得印花多少個？(列式計算)

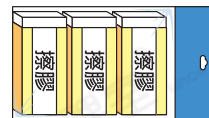
16.




媽媽給子文90元用來買西餅，他最多可以買\_\_\_\_\_件西餅，餘下\_\_\_\_\_元。

17. 一包香腸有6條。店主需要87條香腸做三文治，他最少需要買  
 A. 13包。       B. 14包。       C. 15包。       D. 16包。

18. 每包擦膠售9元6角，平均每塊售  
 \_\_\_\_\_元\_\_\_\_\_角。



-  19. 黃太太把68顆糖果平均分給倩兒和4個姪女後，再把餘下的糖果給了倩兒，倩兒分得糖果多少顆？

- A. 3顆       B. 10顆       C. 13顆       D. 16顆