



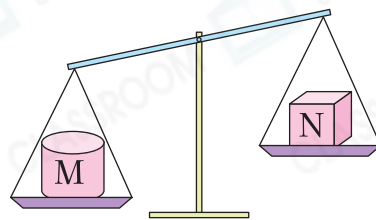
8. 以下哪一件物件最重？

- A. 樹葉      ○ B. 紙      ○ C. 書包      ○ D. 襪子




9. 觀察右圖，以下哪一項描述是正確的？

- A. M比N重。  
○ B. M比N輕。  
○ C. M和N一樣重。  
○ D. 無法比較M和N的重量。



10.



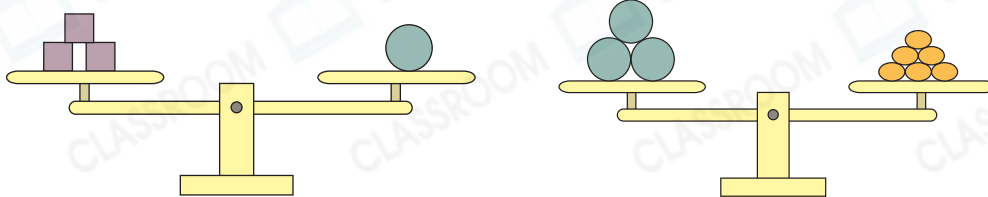
得分重點

從天平兩個稱盤拿走相同的物件後，仍然平衡。









上圖的天平現在平衡，一個  和多少個  的重量相同？

答案：\_\_\_\_\_ 個

11.



觀察上圖，以下哪一項是正確的？

- A.  比  重。  
○ B.  和  的重量相同。  
○ C.  和  的重量相同。  
○ D.  比  輕。