




日期：\_\_\_\_\_

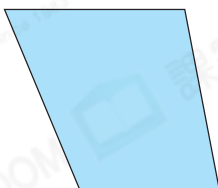
成績：\_\_\_\_\_

下列各圖若是平行四邊形，在  內加「✓」，不是的加「×」。

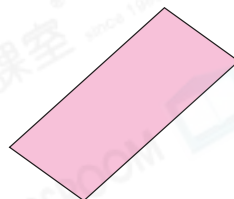
1.



2.

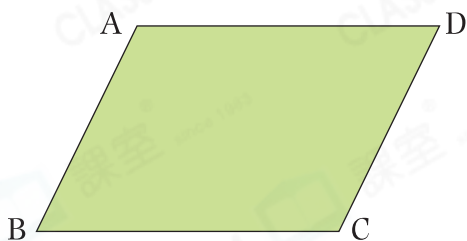


3.



用尺子量度各邊長度，並回答下列各題。

4.



(a) 線段 AD 長 \_\_\_\_\_ cm。

(b) 線段 AB 長 \_\_\_\_\_ cm。

(c) 線段 BC 長 \_\_\_\_\_ cm。

(d) 線段 CD 長 \_\_\_\_\_ cm。

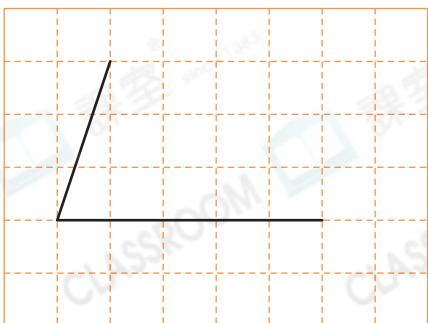
(e) 上圖的對邊長度 \_\_\_\_\_ (相等 / 不相等)。

(f) 上圖的對邊 \_\_\_\_\_ (平行 / 不平行)。

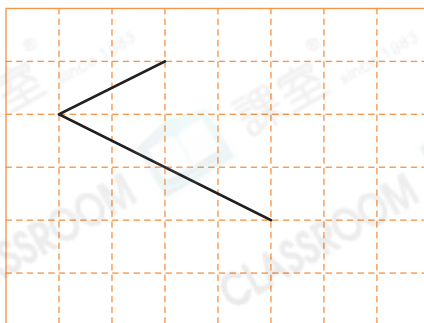


在各圖中加畫兩條線段，與原有的兩條線段組成一個平行四邊形。



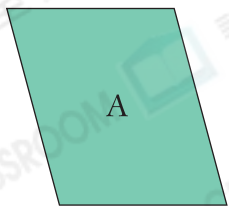
5.



6.



7.

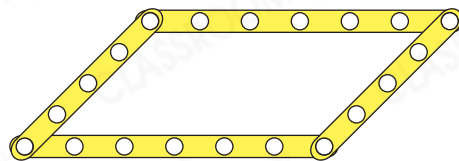


根據表中要求，把代表圖形的英文字母寫在橫線上。

	兩組對邊 平行	兩組對邊 長度相等	四個角 都是直角	四邊 長度相等
(a) 圖形 _____	✓	✓	✓	✗
(b) 圖形 _____	✓	✓	✗	✗
(c) 圖形 _____	✓	✓	✓	✓

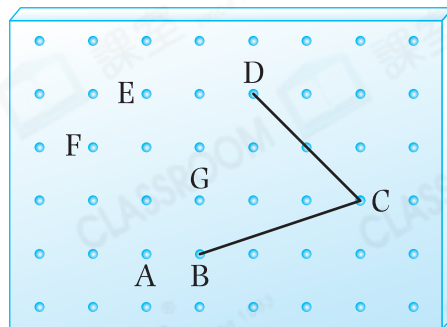
8. 右圖是巧玲用幾何條砌成的平行四邊形。

(a) 巧玲把它移正變成另一個不同形狀的四邊形，這個四邊形是\_\_\_\_\_形。



(b) 長方形★是 / 不是 平行四邊形的一種，平行四邊形★一定 / 不一定是長方形。(★圈出答案)

9. 遠明嘗試在右圖的釘板上圍出一個平行四邊形。他應選用釘板上的★ A / E / F / G (★圈出答案)點，才能與B、C和D點圍出一個平行四邊形。



10. 哥哥有8厘米和12厘米的飲管各一根，他想用飲管拼砌出一個平行四邊形，還欠

○ A. 兩根8厘米的飲管。

○ B. 8厘米和12厘米的飲管各一根。

○ C. 兩根12厘米的飲管。

○ D. 8厘米和10厘米的飲管各一根。