

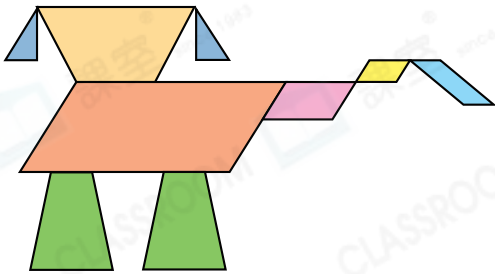


日期：_____

成績：_____



數一數。

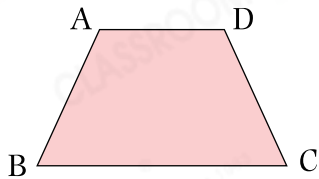


- _____ 個梯形
- _____ 個平行四邊形
- _____ 個三角形



回答下列各題及圈出答案。

4.



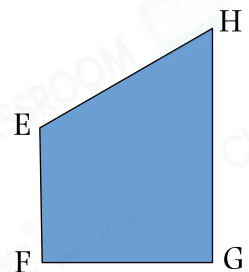
(a) 線段_____是上底，線段_____是下底，它們互相（平行 / 不平行）。

(b) 左圖是一個_____形。

5. (a) 線段_____是上底，線段_____是下底，它們互相（平行 / 不平行）。

(b) 右圖有_____個直角。

(c) 右圖是一個_____形。



下列描述中，正確的在空格內加「✓」，錯誤的加「×」。

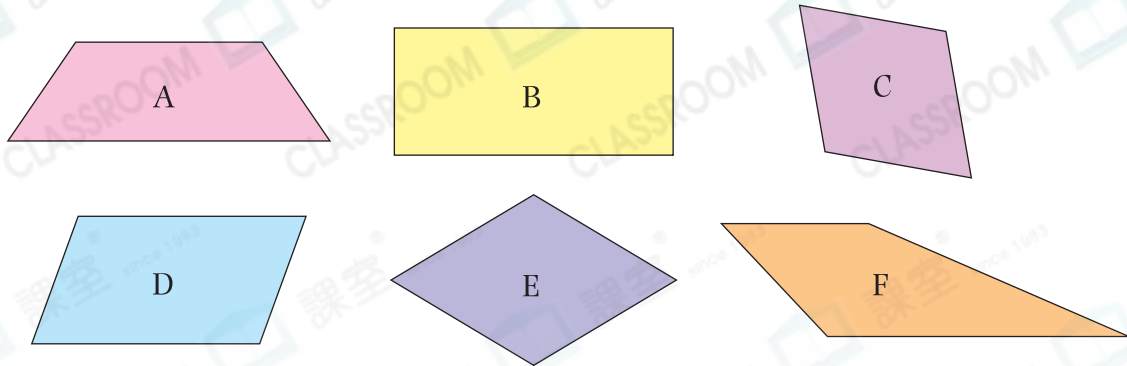
6. 梯形只有一組對邊平行。

7. 梯形最少有一個鈍角。

8. 梯形的四邊相等。

9. 梯形的上底和下底不可能相等。

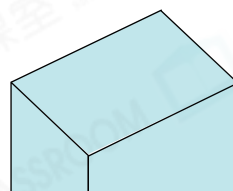
10.



上圖中只有一組對邊平行的四邊形是★ _____ 和 _____ 。

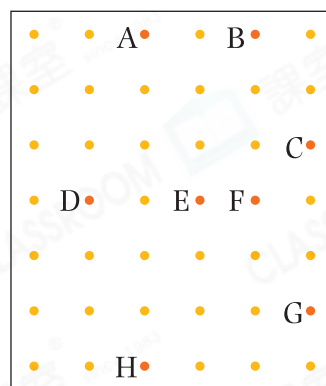
(★寫出代表答案的英文字母)它們是 _____ 形。

11. 右圖由一個 _____ 形和兩個 _____ 形組成。




12. (a) 曉敏將A、B、F和H四點圍起來，會形成一個 _____ 形。


(b) 這個圖形有 _____ 個銳角。



13. (a) 在圖一中畫出一個有垂直線的梯形。



圖一



圖二

(b) 在圖二中畫出一個有一組對邊相等的梯形。