

複習一

● 1上至2下課題



日期：_____

成績：_____ /20



時限： 20分鐘

範疇	評估重點	題目	得分
數	◇ 加法 ◇ 加減混合計算 ◇ 減法 ◇ 四位數	1 - 5	/8
度量	◇ 長度 ◇ 時間 ◇ 香港通用的貨幣	6 - 8	/7
圖形與空間	◇ 立體圖形 ◇ 角 ◇ 平面圖形	9 - 11	/5

自我評估

16-20分

11-15分

0-10分

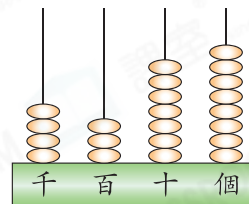
1. $596 - 317 =$ _____

2. $900 - 643 + 178 =$ _____

3. $9 + 15 =$ _____ $+ 9$

4. (a) 用阿拉伯數字寫出右圖算柱所表示的數。

答案：_____



(b) 在右圖算柱所表示的數裏，千位數字是 _____，代表的數值是 _____。

5. 甲山高552米，乙山比甲山高405米，即乙山高多少米？
(列式計算)

6. 右圖鐘面顯示的時間是 _____ 時 _____ 分。



評分總



1分



1分



1分



1分



1分



1分



1分



1分



1分



1分



1分



1分

7. 在下列各項填上適當的度量單位。

(a) 一條行人隧道長約 20 _____。


(b) 一枝鉛筆長約 15 _____。

(c) 一隻鞋子長約 20 _____。

(d) 一輛雙層巴士高約 4 _____。

8. 弟弟購買一個漢堡套餐。

(a) 一個漢堡套餐的售價是 _____ 元 _____ 角。



\$48.50

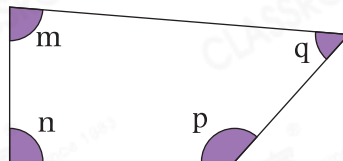
(b) 弟弟以  付款。

圈出須找回的金額。

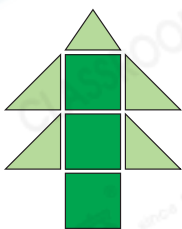


9. 右圖中哪一個角是最大的？

- A. 角 m ○ B. 角 n
○ C. 角 p ○ D. 角 q



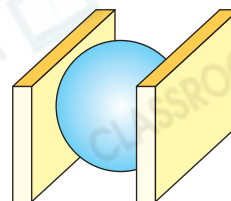
10.



左圖的聖誕樹是由哪些平面圖形組成？

答案：它是由 _____ 形和 _____ 形組成。

11. 右面的立體圖形是由一個 _____ 和兩個 _____ 組成。



1分



1分



1分



1分



1分



1分



1分



1分



1分



1分



1分