



日期：_____

成績：_____ /28

時限： 30分鐘

○ 練習 8 - 15

範疇	評估重點	題目	得分
數	◇ 除法	1 - 10	/14
度量	◇ 重量 ◇ 24小時報時制	11 - 15	/8
圖形與空間	◇ 平行線 ◇ 平行四邊形 ◇ 梯形	16 - 20	/6

自我評估

22-28分

15-21分

0-14分

1. $96 \div 6 =$ _____

2. $452 \div 3 =$ _____

3. $270 \div 9 \div 5 =$ _____

4. 75 除以 2，商是 _____，餘數是 _____。

5. 媽媽花 832 元買了 4 盒面膜，每盒面膜有 8 片，每片面膜價值 _____ 元。

6. 製作一個紙燈籠需要 5 張顏色紙。安妮有 68 張顏色紙，最多可做紙燈籠多少個？

A. 340 個

B. 63 個

C. 14 個

D. 13 個

7. 每塊展板最多可貼 6 幅圖畫，現有 75 幅圖畫，共可貼滿展板多少塊？餘下圖畫多少幅？(列式計算)

評分欄



1分



1分



1分



1分



1分



1分



1分



1分



1分



1分




1分



1分



1分

8. 每枝水彩售9元。文珊有 ，她最多可以買 _____ 枝水彩，餘下 _____ 元。



1分

9. 每輛纜車最多可接載8人，現有92人在纜車站等候，最少需要 _____ 輛纜車才可接載所有人。

1分

10. 志勇和爸爸媽媽一起報名參加廣州兩日遊的旅遊團。平均每人的費用是多少元？(列式計算)



廣州兩日遊

每人 \$468

(大小同價)

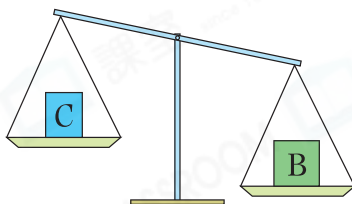
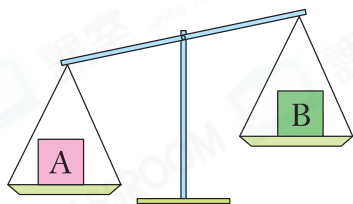
★三人同行，特價\$960!

1分

1分

1分

11.

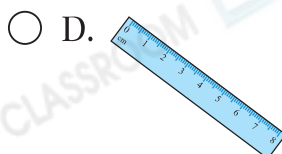
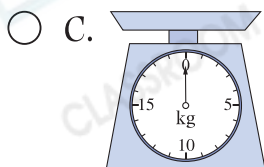
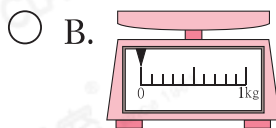
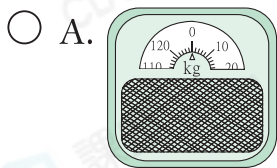


比較A、B和C三件物件的重量，由輕至重排列出來。

答案： _____ ， _____ ， _____
 (最輕) (最重)

1分

12. 以下哪一項最適合用來量度一根蘿蔔的重量？



1分

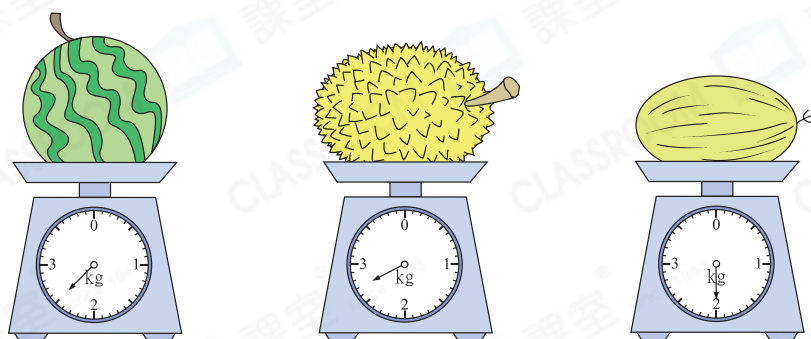
13. 下表顯示電影院今天部分電影的播放時間。

播放時間	10:45	13:10	15:35	18:00
電影名稱	拯救地球	恐龍世紀	外星人	精靈狗

(a) 「外星人」開始播放的時間是★上午 / 下午 (★圈出答案)
 _____ 時 _____ 分。

(b) 安琪在 18:05 進場，她觀看的電影是「_____」。
 (填上電影名稱)

14. 外公在水果店買了三種水果。



(a) 哈密瓜的重量是_____。(答案須填上單位)

(b) 西瓜比榴槿★輕 / 重 (★圈出答案)。

15. (a) 根據右圖，鋼琴演奏會持續
 _____ 小時。

(b) 演奏會結束後，爸爸馬上回家，共用了45分鐘回到家中。用「24小時報時制」表示他回到家的時間，當時是
 _____ : _____。


鋼琴演奏會入場券

地點：大會堂

日期：7月18日

時間：19:30 – 21:30

16. 右圖有★一組 / 兩組 (★圈出答案) 對邊平行，
 它是一個_____形。



1分

1分

1分

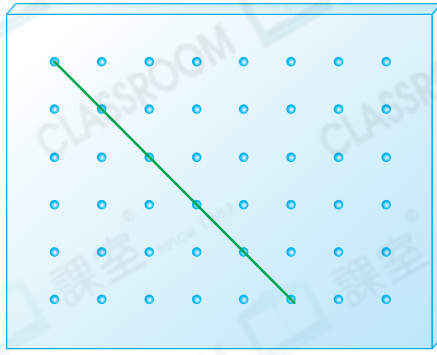
1分

1分

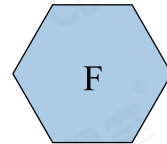
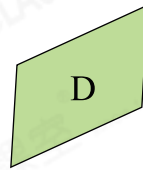
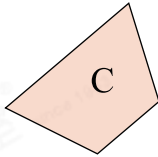
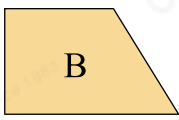
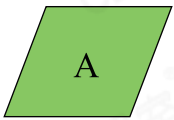
1分

1分

17. 下圖有一條直線，在圖上畫出一條與它平行的直線。



18.



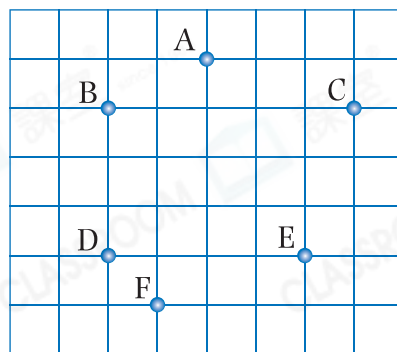
(a) 上圖中，哪個/些圖形只有一組平行線？寫出所有代表答案的英文字母。

答案：_____

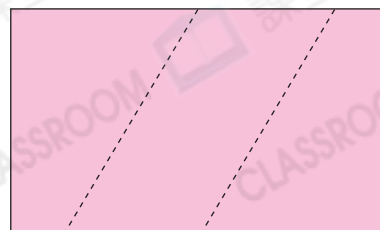
(b) 上圖中，兩組對邊平行且相等的四邊形是★ _____ 和 _____。(★寫出代表答案的英文字母) 它們是 _____ 形。

19. 右圖中有六點，選用其中四點可圍出一個梯形，應選用哪四點？把代表答案的英文字母寫在橫線上。

答案：_____, _____
_____, _____



20. 把右面的長方形卡紙沿虛線剪開，可剪出一個 _____ 形和兩個 _____ 形。



剔一剔

- 完成所有題目
- 已檢查答案