

應用題訓練一

○ 乘法 ○ 減法



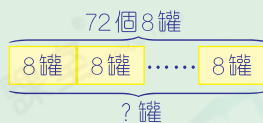
日期：_____

成績：_____


1. 一個紙箱可以裝8罐奶粉，現有72個紙箱，共可裝奶粉多少罐？



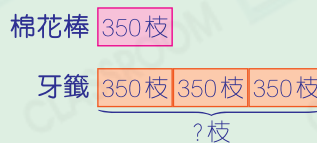
圖解



2. 一盒棉花棒有350枝，一盒牙籤的數量是一盒棉花棒的3倍，一盒牙籤有多少枝？



圖解



3. 每束玫瑰有6枝，每枝售24元。3束玫瑰共售多少元？



提示

先求出每束玫瑰的售價。

4. (a) 現有210個橙，每7個包裝成一袋，包裝了23袋，共包裝了橙多少個？



提示

選出有用數據。

- (b) 包裝後，餘下_____個橙。

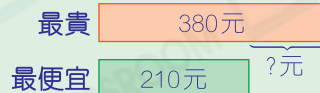
5. 以下是三款遙控車的售價。

遙控車	型號 A	型號 B	型號 C
售價(元)	380	265	210

(a) 比較最貴的和最便宜的遙控車，售價相差多少元？

圖

解



(b) 哥哥和2位朋友合資購買一輛遙控車，每人最多只能付110元，他們不能購買型號_____的遙控車。

6. 一條緩跑徑長800米，敏芝來回跑了兩次，共跑了多少米？

提示

找出「來回跑了兩次」等於跑了多少個800米。

7.

停車場收費	
每半小時	\$18
(不足半小時亦以半小時計算)	

爸爸在停車場停車3小時10分鐘。他須付停車費多少元？

提示

先求出3小時10分鐘共有多少個「半小時」。