



日期：_____

成績：_____

用尺子量度下列各物件的長度。

1. _____ 毫米

2. _____ 毫米

3. _____ 毫米

4. _____ 毫米

為下列各項填上適當的長度單位。

5. 一片樹葉長約 66 _____。

6. 一隻滑鼠長約 12 _____。

7. 一本小說的厚度約是 9 _____。

8. 一隻拇指的闊度約是 15 _____。

9. 5塊擦膠疊起來的高度約是 50 _____。

得分重點

在填寫單位前，先觀察數據的大小。

填上正確的答案。

10. 10 厘米 = _____ 毫米

11. 760 毫米 = _____ 厘米

12. 8 厘米 9 毫米 = _____ 毫米

13. 5cm2mm = _____ mm

14. 以下哪一個單位最適合用來量度一個5元硬幣的厚度？

- A. km ○ B. m ○ C. cm ○ D. mm

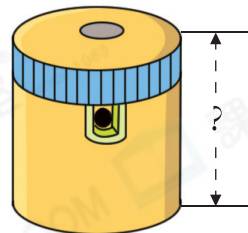
15. 哥哥估計右圖鉛筆刨的高度是3cm。

(a) 用尺子量度它的高度。

它的高度是_____mm。

(b) 哥哥估計的高度比實際的☆多 / 少 (☆圈出答案)

_____mm。



16.



家樂

我的食指長45毫米。

我的食指長5厘米。



家怡



家慧

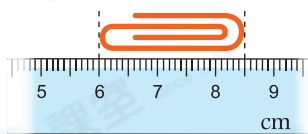

我的食指長4厘米3毫米。

(a) 家怡的食指長_____mm。

(b) 家樂的食指比家怡的短_____mm。

(c) 三人中，_____的食指最短，_____的食指最長。

17. 文俊用回形針來量度以下貼紙的長度和闊度。



貼紙的長度是_____毫米，它的長度與闊度相差_____毫米。