

6





時間應用題



日期：_____

成績：_____

以下各鐘面顯示的是同一天的時間，在_____上填上正確答案。

	活動開始時間	活動時長	活動結束時間
1.		2小時	_____ 午 _____ 時 _____ 分
2.		_____ 小時	
3.	_____ 午 _____ 時 _____ 分	50分鐘	

根據下圖資料，回答下列各題。

《海洋奇遇》劇場表演時間表	
	開始時間
第一場	12:00 noon
第二場	2:30 p.m.
第三場	4:00 p.m.
第四場	5:30 p.m.

- 第一場和第三場的開始時間相距_____小時。
- 每場表演時長20分鐘，第二場在_____午_____時_____分結束。
- 現在是下午5時47分，第四場表演已經開始了_____分鐘。

7. 右圖是立基開始吃午飯的時間。



(a) 4小時前立基到達學校，即他到達學校的時間是_____午_____時_____分。

(b) 立基在  吃完午飯，他吃午飯用了_____分鐘。

8. 志鈞在下午7時20分來到禮堂。少媚比他早35分鐘來到禮堂。少媚在何時來到禮堂？



9. 爸爸今天在7:30 a.m.起牀，他昨晚睡了8小時，他在昨天_____午_____時_____分睡覺。

10. 右圖是醫務所的應診時間。

應診時間

8:30 a.m. — 7:30 p.m.

(a) 醫務所全日的應診時間共長_____小時。

(b) 陳太太在上午7時52分到達醫務所，她最少要等候_____分鐘才能進入診症室。

11. 右面是香港飛往北京的部分航班時間表。

(a) 航班TJ733起飛後，在下午1時55分到達北京，航行了_____小時。

(b) 表哥準備去北京公幹，在正午12時從公司出發，48分鐘後到達機場，他最快可搭乘航班_____。
(填上航班名稱)

航班	起飛時間
DM721	9:05 a.m.
TJ733	10:55 a.m.
LM365	12:25 p.m.
HD490	2:08 p.m.
LB117	3:35 p.m.