

第二次小測 (3上數學科)

姓名：

日期：

班別：

()

總分：

/21

時限：

15分鐘

(範圍：練習4-7)

一、計算下列各題。(6分)

1. $43 \times 2 =$ _____

2. $66 \times 8 =$ _____

3. $121 \times 3 =$ _____

4. $465 \times 6 =$ _____

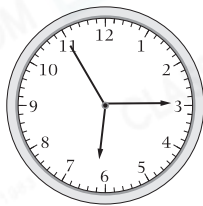
5. $20 \times 7 \times 5 =$ _____

6. $125 \times 9 \times 4 =$ _____

二、回答下列各題。(6分)

1. 寫出各鐘面顯示的時間。

(a)




_____ 時 _____ 分 _____ 秒

(b)



_____ 時 _____ 分 _____ 秒

2. 下面是50米跑步比賽首四名學生所用的時間。




美芬獲得第三名，她用了 _____ 秒完成比賽。

3. 志彬預計在上午十時五分到達游泳館，由於遇上交通阻塞，他在

10:26 a.m.

才到達游泳館，比預計時間遲了 _____ 分鐘。

4. 右圖時鐘顯示爸爸搭乘的航班時間。乘客須在起飛前45分鐘辦理登機。他最遲應在_____時_____分辦理登機。



5. 曉雲在

4:50	³² p.m.
------	-----------------------

 回到家中，哥哥在

4:51	¹⁵ p.m.
------	-----------------------

 回到家中，曉雲比哥哥早_____秒回到家中。

三、列式計算下列各題。(9分)

1. 每個放映院有128個座位，6個放映院均滿座，即售出戲票多少張？

2. 每袋梨有7個，超級市場售出39袋梨，共售出梨多少個？

3. 一名工人每天可修路25米，6名工人在8天裏最多可修路多少米？