

第三次小測 (3上數學科)

姓名：

日期：

班別： ()

總分： /22

時限： 15分鐘

(範圍：練習8-11)

一、計算下列各題。(6分)

1. $36 \div 3 =$ _____

2. $94 \div 5 =$ _____

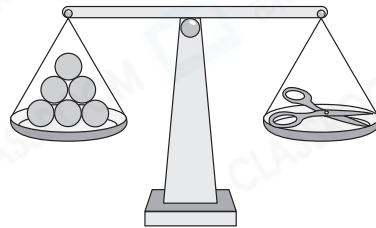
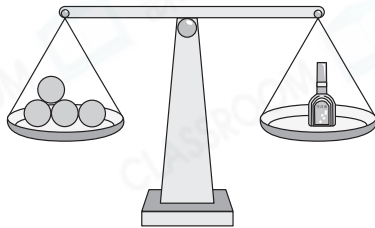
3. $248 \div 2 =$ _____

4. $563 \div 8 =$ _____

5. $84 \div 3 \div 4 =$ _____

6. $648 \div 9 \div 5 =$ _____

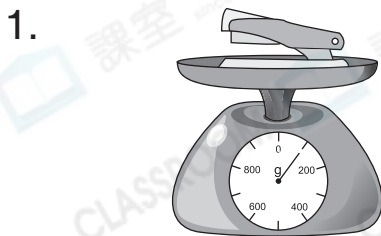
二、比較下列各物件的重量。(2分)




1. 塗改液約重 _____ 粒膠珠。

2. ☆ 塗改液 / 剪刀 較輕。(☆圈出答案)

三、填寫下列各物件的重量。(2分)



_____ 克




_____ 公斤 _____ 克

四、列式計算下列各題。(12分)

1. 家欣和三位哥哥合資購買一件外套給媽媽，平均每人須付多少元？



2. 工人把月餅每6個裝成一盒。現有452個月餅，最多可裝成多少盒？還餘多少個？



3. 做一件衣服需用4米布，一匹長74米的布最多可做衣服多少件？



4. 3間分店一星期售出336部智能手機，平均每間分店每天售出智能手機多少部？

