

# 第四次小測 (3上數學科)

姓名：

日期：

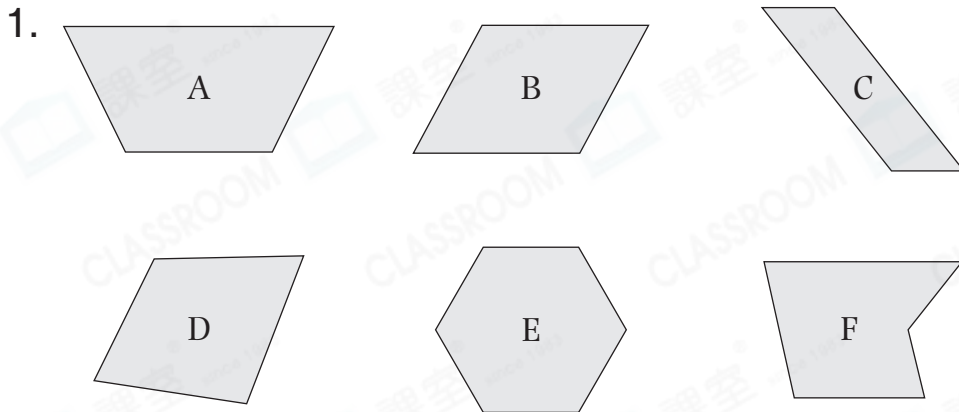
班別：  ( )

總分：  /13

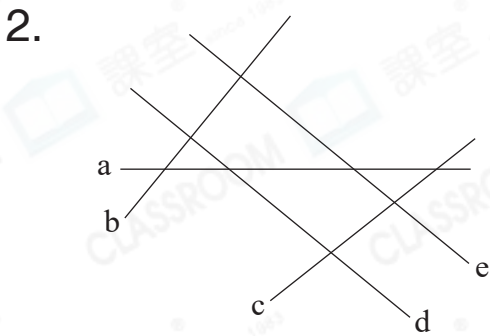
時限： 15分鐘

(範圍：練習12-15)

## 一、回答下列各題。(10分)

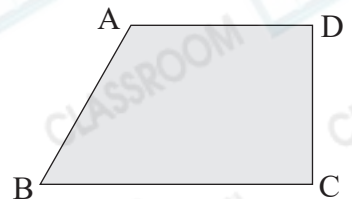


上圖中有兩組對邊平行的四邊形是★          和         。  
 (★寫出代表答案的英文字母)它們都是          形。



左圖中，直線          和直線          是一組平行線。

3. 右圖是一個          形，它有          組平行線。

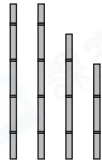
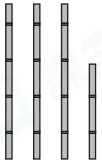


4.

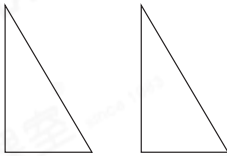


把左面的長方形沿着虛線剪開後，可得到 \_\_\_\_\_ 個 \_\_\_\_\_ 形。

5. 圈出可以製作出平行四邊形的一組竹枝。



6.



左面的兩個三角形可拼砌出哪些四邊形？

答案：\_\_\_\_\_ 形和 \_\_\_\_\_ 形


## 二、繪圖題(3分)

1. 在右面的方格紙上繪畫一組平行線。



2. 在釘板上繪畫指定的圖形。

(a) 梯形



(b) 平行四邊形

