

# 測 驗 一

日期：\_\_\_\_\_

成績：\_\_\_\_\_ /35

時限： 30分鐘

## 練習 1-7

範疇	評估重點	題目	得分
數	<ul style="list-style-type: none"> <li>◆ 圓括號的認識</li> <li>◆ 加減混合計算</li> <li>◆ 乘加和乘減混合計算</li> </ul>	1 - 14	/23
圖形與空間	<ul style="list-style-type: none"> <li>◆ 三角形</li> </ul>	15 - 21	/12

### 自我評估

27-35分 

18-26分 

0-17分 

1.  $86 - (23 + 19) =$  \_\_\_\_\_

2.  $(23 + 37) \times 8 =$  \_\_\_\_\_

3.  $220 - 29 \times 7 =$  \_\_\_\_\_

4.  $4 \times (100 - 25)$   
 $= 4 \times$  \_\_\_\_\_  $- 4 \times$  \_\_\_\_\_  
 $=$  \_\_\_\_\_

5. 下列哪一道算式的結果和「 $184 + 127 - 49$ 」的相同？

- A.  $184 + (127 + 49)$        B.  $184 - (127 + 49)$   
 C.  $184 - (127 - 49)$        D.  $184 + (127 - 49)$

6. 何先生和太太參加北京四天團，共須付團費多少？(列式計算)



自在旅行社

北京四天團

每人 \$3889

兩人同行，共可減\$888

評分欄

- 1分
- 1分
- 1分
- 1分
- 1分
- 1分
- 1分
- 1分



7. 果農採摘了160箱蜜瓜，一輛小貨車每次運走16箱，運了7次。若每箱蜜瓜有9個，那麼還餘下蜜瓜多少個？

答案：\_\_\_\_\_個

8.



~~每本\$30~~

**特價週**

買兩本	每本\$25
買三本	每本\$20
買四本或以上	每本\$18

(a) 媽媽付200元買6本故事書，應找回\_\_\_\_\_元。

(b) 志明原有108元，買了3本故事書後，還餘\_\_\_\_\_元。



9. 食品廠昨天用去24公斤麵粉，今天用去的麵粉比昨天的3倍多8公斤，食品廠今天用去麵粉多少公斤？(列式計算)

(Blank area for calculation)



10. 下表記錄了畫展前三天的入場人次，第二天的入場人次比第一天多314人次。

時間	第一天	第二天	第三天
入場人次(人次)		2805	3281

(a) 首兩天的總入場人次是\_\_\_\_\_人次。

(b) 第一天的入場人次與第三天的相差\_\_\_\_\_人次。



11.



嘉樂從每包氣球中各拿出 12 個裝飾房間，還餘氣球多少個？

答案：\_\_\_\_\_ 個

1分

12. 農夫原計劃每天種植 92 棵樹苗。實際他每天比原計劃多種了 12 棵，4 天便種完所有樹苗。他共種植了 \_\_\_\_\_ 棵樹苗。

1分

13. 表哥昨天工作 6 小時，時薪是 86 元。從今天起，他的時薪增加 9 元。表哥今天比昨天多工作了 2 小時，他今天獲得薪金多少元？(列式計算)

1分

1分

1分

14. 美珊上星期練習鋼琴 5 天，每天練習 30 分鐘。詠研上星期每天練習鋼琴 45 分鐘。美珊和詠研上星期練習鋼琴的時間共相差 \_\_\_\_\_ 分鐘。

1分

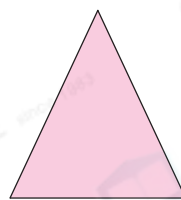
15. 寫出下列各三角形的名稱。

(a)



\_\_\_\_\_ 三角形

(b)



\_\_\_\_\_ 三角形

1分

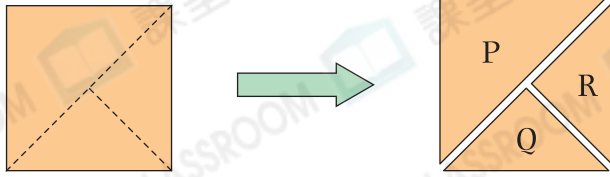
1分

16. 等邊三角形★是 / 不是 等腰三角形的一種，等腰三角形★一定 / 不一定 是等邊三角形。(★圈出答案)

1分

1分

17.




沿着虛線把上面的正方形手工紙剪開後，可得出三個三角形。  
三角形R有

- A. 兩條長度相等的邊。       B. 三條長度相等的邊。  
 C. 三個銳角。                   D. 兩個直角。



18. 在右面的方格紙上畫出一個不等邊三角形。



19. 一個等腰三角形最多有\_\_\_\_\_個鈍角。

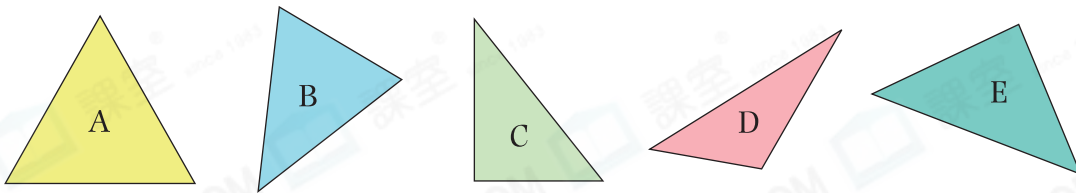


20. 志誠用三枝竹籤拼出了一個三角形，其中兩枝竹籤的長度分別是4cm和8cm。下列哪一項不可能是另一枝竹籤的長度？



- A. 10cm       B. 9cm       C. 5cm       D. 4cm

21.



(a) 上圖中有三條邊長度相等的三角形是★\_\_\_\_\_。



(★寫出代表答案的英文字母)

它是一個\_\_\_\_\_三角形。



(b) 上圖中有直角的三角形是★\_\_\_\_\_和\_\_\_\_\_。



(★寫出代表答案的英文字母)

它們是\_\_\_\_\_三角形。



剔一剔

- 完成所有題目  
 已檢查答案