

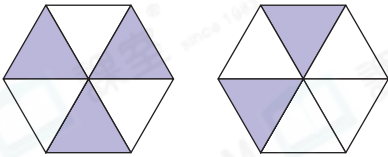


日期：_____

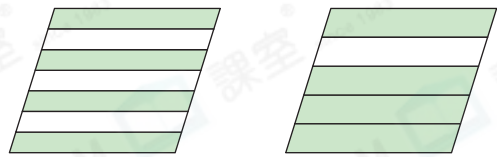
成績：_____

圖中着色部分佔全圖較多的，在 內加「✓」。

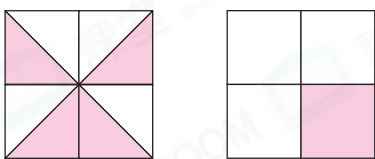
1.



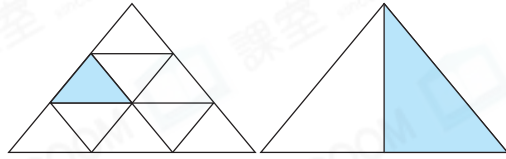
2.



3.



4.



在 內加上「>」、「<」或「=」。

5. $\frac{1}{5}$ $\frac{1}{9}$

6. $\frac{6}{10}$ $\frac{9}{10}$

7. $\frac{8}{12}$ $\frac{11}{12}$

8. $\frac{7}{7}$ $\frac{3}{3}$

9. $\frac{4}{9}$ $\frac{4}{13}$

10. $\frac{5}{8}$ $\frac{3}{8}$



分母相同的分數，分子越大，數值越大。

分子相同的分數，分母越小，數值越大。



圈出數值最小的分數。

11. $\frac{3}{15}$ $\frac{11}{15}$ $\frac{8}{15}$

12. $\frac{11}{13}$ $\frac{11}{14}$ $\frac{11}{12}$

13. $\frac{7}{7}$ $\frac{7}{9}$ $\frac{7}{10}$

14. $\frac{10}{22}$ $\frac{22}{22}$ $\frac{15}{22}$

15. (a) $\frac{5}{6}$ ☆ 小於 / 等於 / 大於 1。 (☆ 圈出答案)

(b) 在空格內填上適當的數字。

$\frac{1}{3}$ 比 $\frac{1}{\square}$ 小。

16. 以下哪一個分數的數值最大？

○ A. $\frac{5}{18}$

○ B. $\frac{11}{18}$

○ C. $\frac{15}{19}$

○ D. $\frac{15}{18}$

17. 把三個分數由大至小排列如下：

$\frac{5}{6}$, \square , $\frac{5}{12}$

(最大)

(最小)

空格裏的分數可能是：

○ A. $\frac{5}{5}$

○ B. $\frac{5}{7}$

○ C. $\frac{5}{13}$

○ D. $\frac{1}{12}$

得分重點

把選項的分數代入題目中，再逐一比較。

18. 媽媽買了一瓶果汁。



媽媽

我喝了一瓶果汁的 $\frac{1}{8}$ 。



妹妹

我喝了一瓶果汁的 $\frac{3}{7}$ 。



姊姊

我喝了一瓶果汁的 $\frac{3}{8}$ 。

把三人喝的分量由少至多排列出來。

答案： \square , \square , \square
(最少) (最多)

19. 右面三個數是由大至小排列的。♥ 代表的數字可能是 _____、_____ 或 _____。

$$1 > \heartsuit > \frac{8}{12}$$