



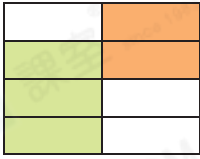
日期：\_\_\_\_\_

成績：\_\_\_\_\_



看圖算一算。

1.



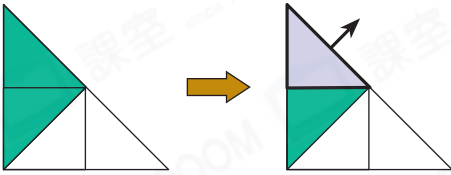
$$\frac{3}{8} + \frac{2}{8} = \boxed{\phantom{00}}$$

2.



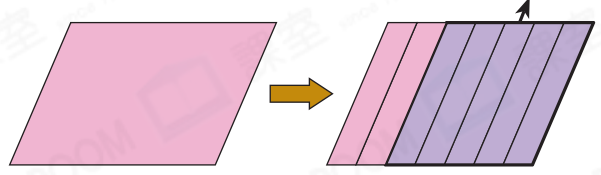
$$\frac{1}{12} + \frac{2}{12} + \frac{3}{12} = \boxed{\phantom{00}}$$

3.



$$\frac{2}{4} - \frac{1}{4} = \boxed{\phantom{00}}$$

4.

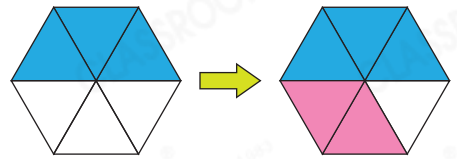


$$1 - \boxed{\phantom{00}} = \boxed{\phantom{00}}$$



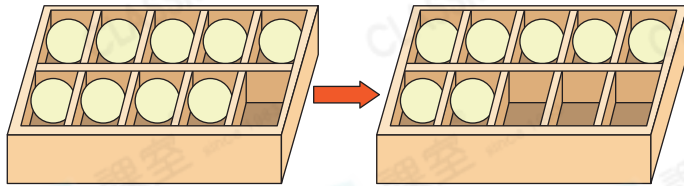
列式計算下列各題。

5. 弟弟把一個六邊形分成 6 等份，然後把整個圖形的  $\frac{3}{6}$  填上藍色，再把整個圖形的  $\frac{2}{6}$  填上紅色，填色部分佔整個圖形的幾分之幾？



填色部分佔整個圖形的：\_\_\_\_\_

6.

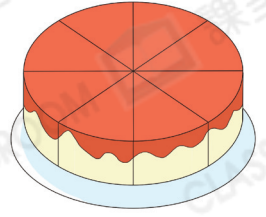


體育室有  $\frac{9}{10}$  盒乒乓球，3A 班學生借了  $\frac{2}{10}$  盒，餘下乒乓球多少盒？



餘下乒乓球：\_\_\_\_\_

7. 德恆把一個蛋糕切成8等份，如右圖所示。然後他取去 $\frac{2}{8}$ 個蛋糕，妹妹和弟弟各取去 $\frac{1}{8}$ 個。下列哪一道算式可以找出他們共取去蛋糕多少個？




○ A.  $\frac{1}{8} + \frac{1}{8}$

○ B.  $\frac{2}{8} + \frac{1}{8}$

○ C.  $\frac{2}{8} + \frac{1}{8} + \frac{1}{8}$


○ D.  $\frac{2}{8} + \frac{2}{8} + \frac{1}{8}$

8.  $\frac{7}{12}$ 盒貼紙，家文取走了 $\frac{1}{12}$ 盒，而家清取走了 $\frac{5}{12}$ 盒，他們取走的貼紙相差多少盒？(列式計算)



9. 一袋麵粉分三次用完，第一次用去 $\frac{1}{9}$ 袋，第二次用去 $\frac{5}{9}$ 袋，第三次用去 $\frac{3}{9}$ 袋。

(a) 把下圖塗上三種顏色，分別表示三次用去麵粉佔一袋麵粉的分數。



(b) 第二次和第三次共用去  $\frac{\square}{\square}$  袋麵粉。

10. 婉珊把一張畫紙分成5等份，上午用了1份，下午用了2份，還餘下畫紙多少張？(列式計算)

