



日期：_____

成績：_____



依指示，圈一圈。

1. 所有容器



2. 容量最大



3. 容量最小



以下哪個容器最適合用來量度左面容器的容量？在○內加上「✓」。

4.





5.



6. 盛滿水的  剛好注滿     。

盛滿水的  剛好注滿        。

(a)  /  ( 圈出答案) 的容量較大。

(b) 盛滿水的  剛好注滿 _____ 個  。

7. 以下哪一個容器的容量最大？

A.



B.



C.



D.



8. 把容器P注滿水，然後把全部水倒進容器Q裏。

下列哪一項是正確的？

A. P的容量較小。





B. P的容量較大。




C. P和Q的容量相等。

D. 無法比較P和Q的容量。



9. 盛滿水的  剛好注滿       。

盛滿水的  剛好注滿    。

盛滿水的   剛好注滿 _____ 個  。

10. 右面兩個容器的容量相同。兩個容器內所盛的水的分量  相同 / 不相同 。

( 圈出答案)

