



日期：_____

成績：_____



替下列各容器填上適當的容量單位：「升」或「毫升」。

1.



2.



STEAM 百科

一個成年人的總血液量約是4000mL至5000mL，健康的成年人每次可捐贈的血液約是200mL至400mL。

3.



4.



5.



估計下列各容器的容量，比1升大的，在 內加「✓」；比1升小的，加「×」。

6.



7.



8.



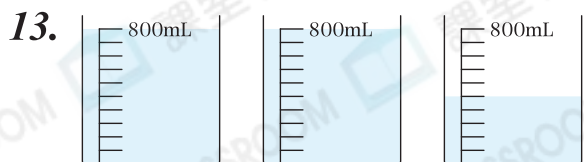
填一填。

9. 8000mL = _____ L

10. 12L = _____ mL

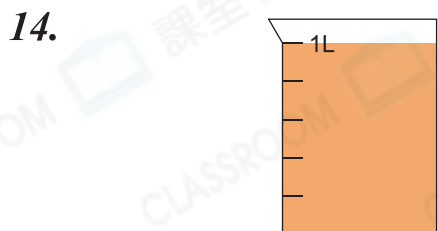
11. 4 升 500 毫升 = _____ 毫升

12. 1 升 20 毫升 = _____ 毫升



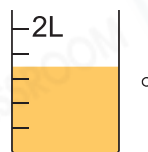
剛好可注滿  的容量

是 _____ L。



1L木瓜奶剛好注滿4個水杯，每個水杯的容量是 _____ mL。

15. 量杯內原有1800mL橙汁，媽媽喝去一些後，餘下橙汁



她喝去 _____ 橙汁。(答案須寫上單位)

16. 根據題意，在量杯上畫上水位線以表示答案。

(a) 注入2L500mL的水。

(b) 注入60mL的蘋果汁。



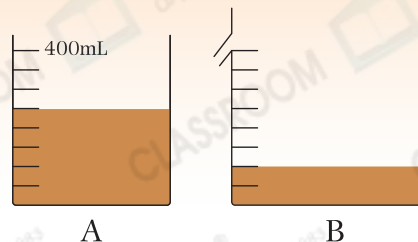
腦力挑戰站



詳盡提示

右圖中，A、B兩個量杯內的咖啡一樣多，量杯B最多還可盛咖啡多少毫升？

答案： _____ 毫升



A

B