



日期：_____

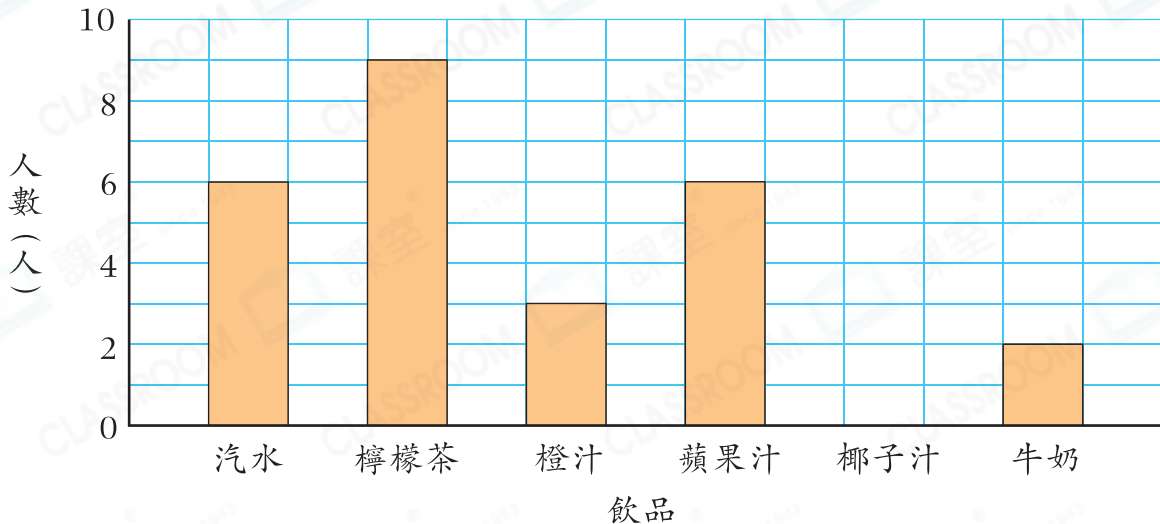
成績：_____



回答下列各題。

3A班學生以一人一票的方式，選出最喜愛的飲品，結果如下：

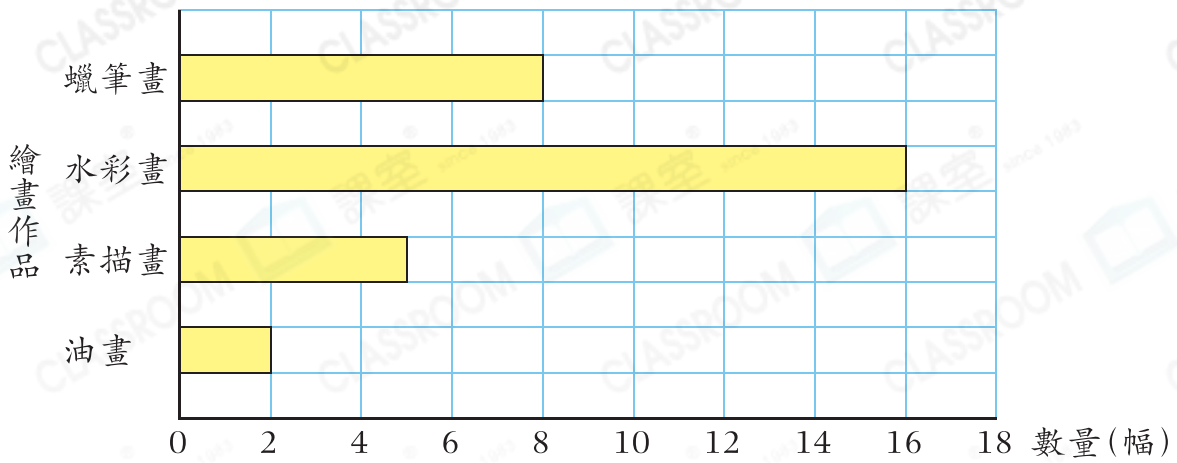
3A班學生最喜愛的飲品



- 棒形圖的縱軸表示_____，橫軸表示各類_____。
- 棒形圖每格代表_____人。
- 最多學生喜愛的飲品是_____。
- 最喜愛_____和_____的人數相同。
- 椰子汁這類飲品沒有對應的棒，因為_____。
- 最喜愛牛奶的人數比最喜愛橙汁的★多 / 少_____人。
(★圈出答案)
- 最喜愛的飲品不是果汁的學生共有_____人。
- 有4名學生沒有投票，即3A班共有_____名學生。

以下棒形圖顯示心怡收集的繪畫作品。

心怡收集的繪畫作品

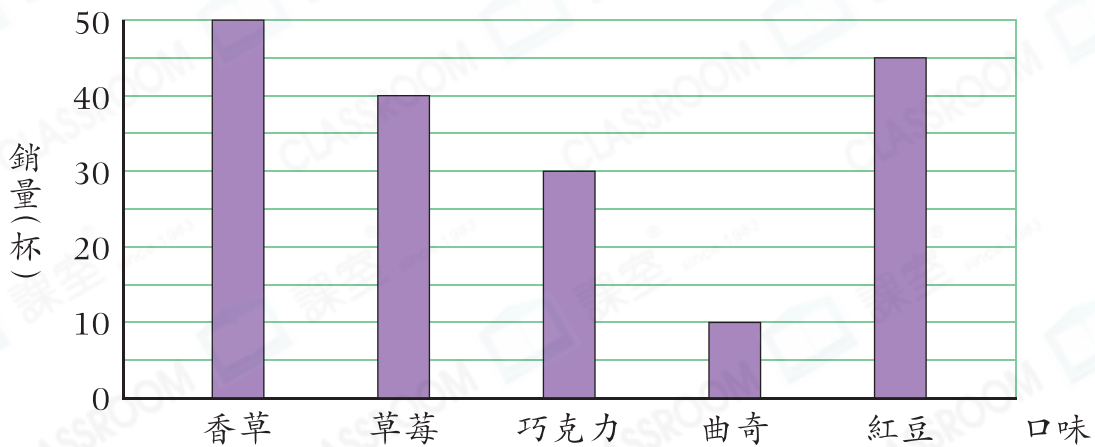


9. 比較數量最多和最少的兩種作品，相差_____幅。

10. 心怡收集_____的數量是_____的一半。

以下棒形圖顯示雪糕店昨天雪糕的銷量。

雪糕店昨天雪糕的銷量



11. 昨天有_____款雪糕的銷量多於30杯。

12. 店主打算選其中一款雪糕在週末進行優惠促銷，他應選擇哪一款雪糕？為什麼？

答案：因為_____

所以他應選擇_____雪糕。