

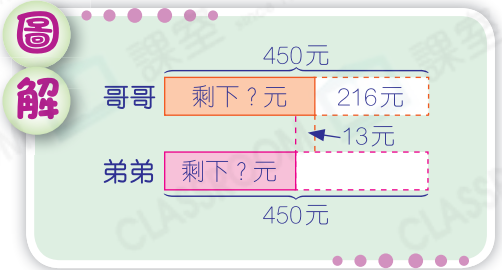
# 應用題訓練二

日期：\_\_\_\_\_

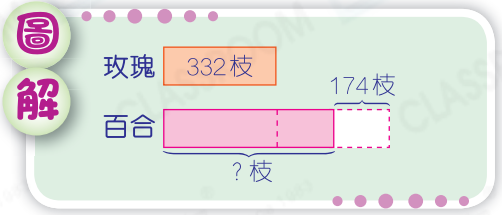
成績：\_\_\_\_\_

○ 加減混合計算    ○ 乘減混合計算    ○ 同分母分數的計算

1. 兩兄弟各有 450 元，哥哥買字典用去 216 元。弟弟比哥哥多用 13 元後，弟弟剩下多少元？



2. 花店有 332 枝玫瑰，百合比玫瑰的 2 倍少 174 枝，即有百合多少枝？



3. 一張椅子原價 740 元，現在便宜 199 元。子仁付 2500 元買 4 張椅子，應找回多少元？



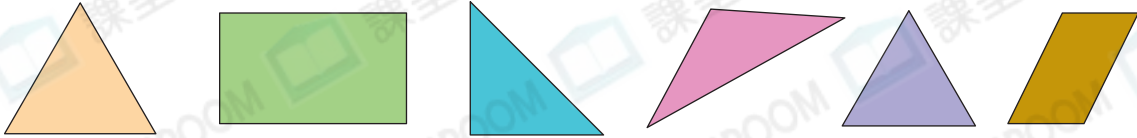
**提示** 先計算以特價買四張椅子須付的款項。

4. 餐桌上有 ，橙和蘋果共佔全部水果的幾分之幾？



**提示** 先求出橙和蘋果各佔全部水果的幾分之幾。

5.

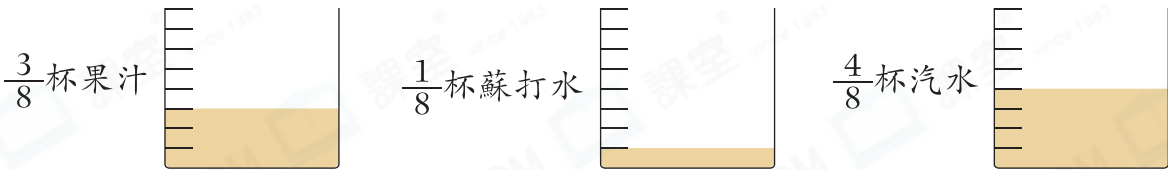


等邊三角形比長方形多佔全部圖形的幾分之幾？



**提示**  
分別找出等邊三角形和長方形的數量。

6.




將以上三個量杯內的果汁、蘇打水和汽水混合後，可製成特飲多少杯？



**提示**  
先找出混合前每種飲品各佔多少格，再找出混合後共佔多少格。

7. 把一個薄餅切成 10 等份，子聰吃了  $\frac{3}{10}$  個，子敏吃了 4 塊。

(a) 餘下薄餅多少個？



**提示**  
先找出子敏吃的薄餅佔整個薄餅的幾分之幾。

(b) 兩人吃的薄餅相差 \_\_\_\_\_ 個。