

複習二

● 1 上至 3 上課題

1

日期：_____

100

成績：_____ /19

時限： 20分鐘

範疇	評估重點	題目	得分
數	◇ 次序 ◇ 乘法 ◇ 減法 ◇ 除法	1 - 6	/9
度量	◇ 長度 ◇ 重量 ◇ 香港的貨幣	7 - 9	/6
圖形與空間	◇ 平面圖形 ◇ 立體圖形 ◇ 角	10 - 12	/4



自我評估

15-19分

10-14分

0-9分

1. $26 \times 7 =$ _____

2. $134 \div 4 =$ _____

3. 在空格內填上正確的數字。

$$\begin{array}{r}
 806 \\
 - \square 37 \\
 \hline
 3\square\square
 \end{array}$$

4. 智風在排隊上車，他排第八，剛好排在中間。

(a) 現在車上有 16 個空位，這些座位 足夠 / 不足夠 (圈出答案) 給所有排隊的乘客。

(b) 三人上車後，智風 前面還有 _____ 人。

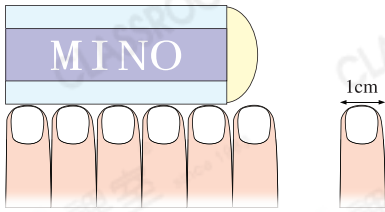
5. 小食店今天收到 183 個 5 元硬幣，即共收到多少元？(列式計算)

6. 一條長 50m 的繩子最多可剪出 _____ 段各長 6m 的繩子。

評分欄



7. 細閱下列每項描述，若描述正確，在空格內加上「✓」；若描述錯誤，加上「✗」。

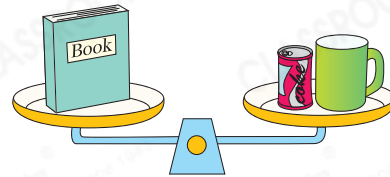




(a) 每個  闊 10mm。



(b) 擦膠長 5cm。

答案

8. 一本書重 500g，一罐汽水重 330g，
一個杯子重 _____。
(答案須寫上單位)



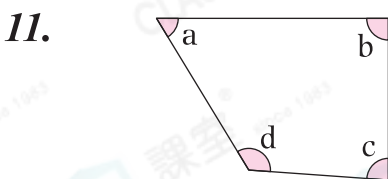

9. (a) 2 張  可換得 _____ 張 。

(b) 1 張  可換得 3 張  和 _____ 張



(c) 1 個  可換得 _____ 個  和 _____ 個 。

10. 右圖的立體圖形是由三個 _____
和兩個 _____ 所組成。



左圖中，哪個角是直角？

- A. 角 a
- B. 角 b
- C. 角 c
- D. 角 d

12. 右圖共可數出 _____ 個平行四邊形。

