

1

圓括號的認識



日期：_____

成績：_____



列出下列各題的計算步驟，並找出答案。

1. $25 + (50 - 15)$

= _____

= _____

2. $72 - (18 + 26)$

= _____

= _____

3. $(49 + 21) - 30$

= _____

= _____

4. $125 - (98 - 46)$

= _____

= _____



計算下列各題。


5. $(54 - 17) + 62 =$ _____


6. $200 - (111 + 66) =$ _____

7. $35 - (64 - 49) =$ _____


8. $(369 + 234) + 18 =$ _____

算式正確的，在  內加「✓」；錯誤的加「×」，並在算式中加上圓括號，使算式正確。

9.  $49 + 36 - 28 = 57$

10.  $108 - 28 + 12 = 68$

11.  $340 + 29 + 7 = 376$

12.  $74 - 31 - 9 = 52$



加油站

在算式的開始部分或加號後加上圓括號，算式的答案是不變的。

例 $5 + 4 - 3 = 9 - 3 = 6$
 $(5 + 4) - 3 = 9 - 3 = 6$
 $5 + (4 - 3) = 5 + 1 = 6$

13. 下列哪一道算式的結果與「 $567 - (228 + 194)$ 」的相同？

- A. $567 - 228 + 194$ ○ B. $(567 - 228) + 194$
 ○ C. $567 - 228 - 194$ ○ D. $567 - (228 - 194)$

14. 偉奇有65枚郵票，家怡有52枚郵票。家怡把23枚郵票送給朋友後，兩人現有的郵票數量相差多少枚？

答案：_____枚

15.



子俊

我原有50元，用28元買了一個筆盒。



子琪

我有40元。

(a) 現在子俊比子琪★多 / 少 (★圈出答案) _____元。

(b) 現在子俊和子琪共有_____元。

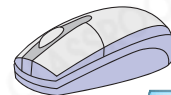
16.



\$250



\$144



\$

(a) 鍵盤比滑鼠貴46元，志聰買一個滑鼠和一副耳機，共須付_____元。

(b) 欣薇有500元，她買了一副耳機和一個鍵盤後，餘下_____元。

17. 農場有326隻雞和125隻鴨，其中鴨比鵝少16隻。雞比鵝多多少隻？
(列式計算)