



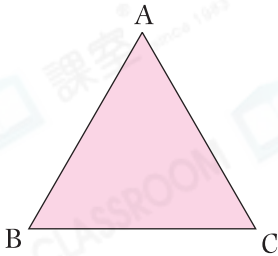
日期：\_\_\_\_\_

成績：\_\_\_\_\_



量一量，填上正確的答案。

1.



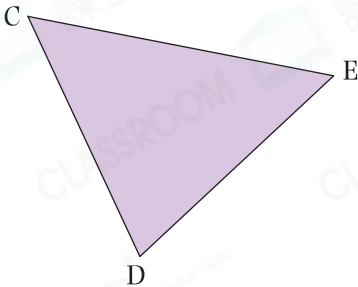
(a) AB 長 \_\_\_\_\_ cm ,

(b) BC 長 \_\_\_\_\_ cm ,

(c) AC 長 \_\_\_\_\_ cm ,

(d) 這是 \_\_\_\_\_ 三角形。

2.



(a) CD 長 \_\_\_\_\_ mm ,

(b) DE 長 \_\_\_\_\_ mm ,


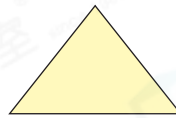
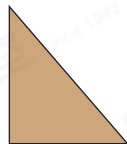
(c) CE 長 \_\_\_\_\_ mm ,

(d) 這是 \_\_\_\_\_ 三角形。

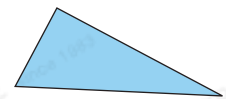
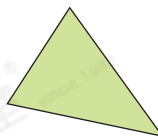


依指示，圈出所有答案。

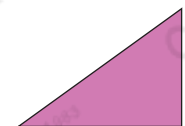
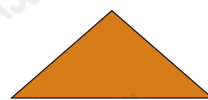
3. 不等邊三角形



4. 等腰三角形

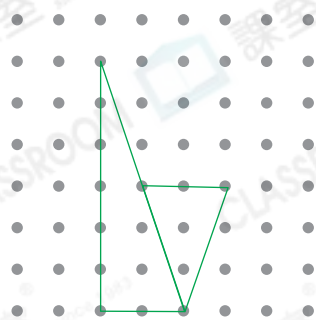


5. 直角三角形



6. 冬梅用橡皮圈在釘板上圍出

- A. 兩個直角三角形。
- B. 兩個等腰三角形。
- C. 一個等邊三角形和一個直角三角形。
- D. 一個等腰三角形和一個直角三角形。



7. (a) 右圖是一個☆ 等腰 / 等邊 / 不等邊 三角形。

(☆ 圈出答案)

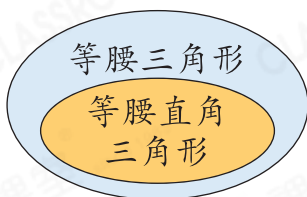
(b) 用尺子量度這個三角形最長的一條邊的長度。

這條邊的長度是 \_\_\_\_\_ mm。

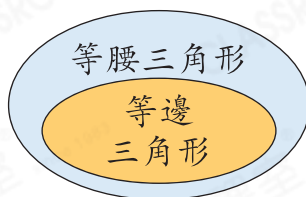


8. 在下列不同種類三角形之間的關係圖中，哪一項是錯誤的？

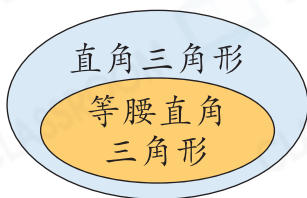
A.



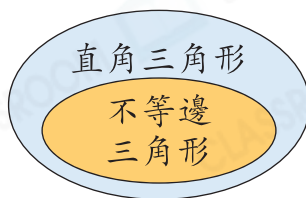
B.



C.



D.



9.



左圖共可數出 \_\_\_\_\_ 個等邊三角形。

10. 一個直角三角形有 \_\_\_\_\_ 個銳角。

11. 智敏用不同的平面圖形拼砌了一幅畫。

(a) 右圖中，共有 \_\_\_\_\_ 個三角形有直角。

(b) 圖形 C 是一個 \_\_\_\_\_ 三角形，它有 \_\_\_\_\_ 條長度相等的邊。

