

# 第三次小測 (3下數學科)

姓名：

日期：

班別：

 ( )

成績：

 /19


時限：

15分鐘

(範圍：練習 8 - 11)

## 一、依分數填色。(4分)

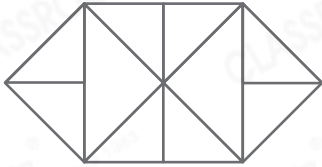
1.  $\frac{1}{4}$




2.  $\frac{3}{8}$



3.  $\frac{5}{12}$



4.  $\frac{5}{6}$



## 二、比較下列各分數的大小。(4分)

1.  $\frac{1}{6}$ ,  $\frac{1}{15}$ ,  $\frac{1}{2}$

\_\_\_\_\_ < \_\_\_\_\_ < \_\_\_\_\_

2.  $\frac{11}{13}$ ,  $\frac{8}{13}$ ,  $\frac{10}{13}$

\_\_\_\_\_ > \_\_\_\_\_ > \_\_\_\_\_

3.  $\frac{1}{10}$ ,  $\frac{3}{4}$ ,  $\frac{1}{4}$

\_\_\_\_\_ < \_\_\_\_\_ < \_\_\_\_\_

4.  $\frac{6}{11}$ ,  $\frac{8}{11}$ ,  $\frac{8}{9}$

\_\_\_\_\_ > \_\_\_\_\_ > \_\_\_\_\_

三、回答下列各題。(5分)

1.  $\frac{3}{7}$  讀作什麼？

2.  $\frac{0}{3} = ?$

3. 寫出一個等於1的分數。

4. 18的 $\frac{2}{9}$ 是多少？



5. 18的 $\frac{4}{6}$ 是多少？

1. \_\_\_\_\_

2. \_\_\_\_\_

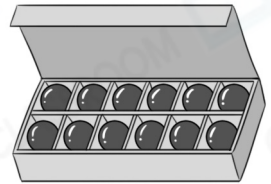
3. \_\_\_\_\_

4. \_\_\_\_\_

5. \_\_\_\_\_

四、列式計算下列各題。(6分)

1. 一盒巧克力，可兒吃了 $\frac{1}{12}$ 盒，妹妹吃了 $\frac{3}{12}$ 盒。  
兩人吃了的巧克力相差多少盒？



2. 一個月餅，爸爸吃了 $\frac{1}{4}$ 個，姊姊吃了 $\frac{1}{4}$ 個，  
弟弟又吃了 $\frac{1}{4}$ 個。他們共吃了月餅多少個？

