

# 第四次小測 (3下數學科)

姓名：

日期：

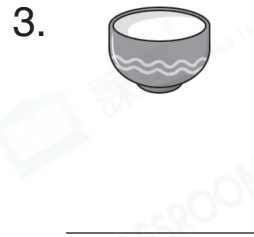
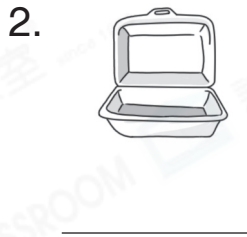
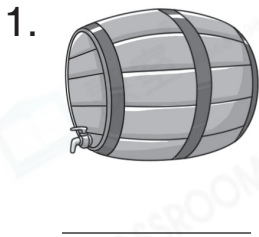
班別：  ( )

成績：  /14

時限： 15分鐘

(範圍：練習 12 - 15)

## 一、填上適當的容量單位：「升」或「毫升」。(3分)




## 二、圈出答案。(3分)



( 水壺 A / 水壺 B ) 的容量較大。



( 花瓶 A / 花瓶 B ) 的容量較小。



三、在橫線上填答案。(4分)

1. 3 升 = \_\_\_\_\_ 毫升

2. \_\_\_\_\_ 升 = 12000 毫升

3. \_\_\_\_\_ mL = 2L200mL

4. 6L5mL = \_\_\_\_\_ mL

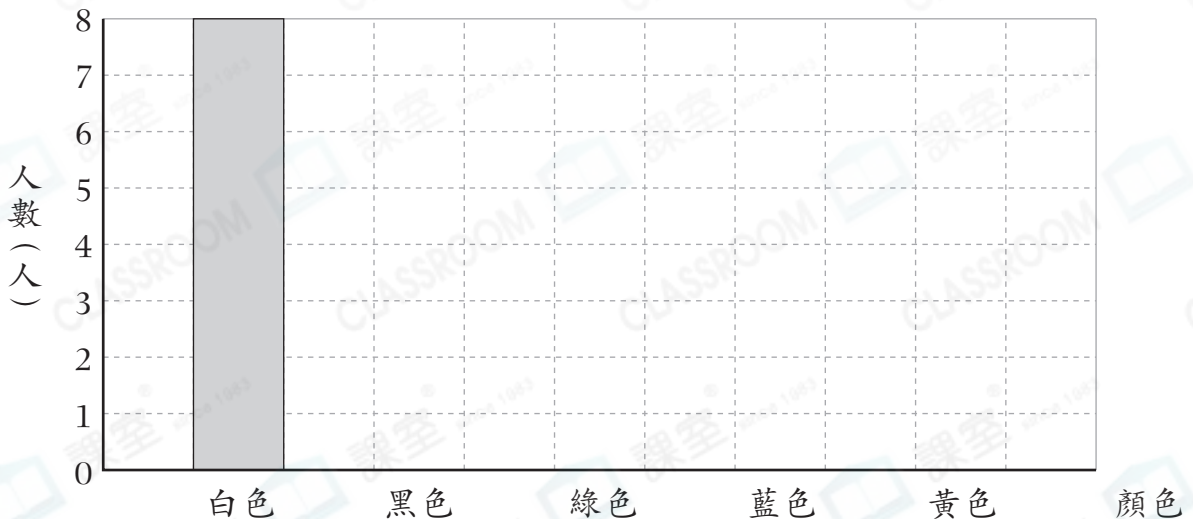
四、回答下列各題。(4分)

顏色	白色	黑色	綠色	藍色	黃色
記錄	正 下	正 一	正 下	正 下	正
人數(人)					

1. 上表顯示 3D 班學生最喜愛的顏色。根據記錄，完成表格。

2. 根據以上資料，完成以下的棒形圖。

3D班學生最喜愛的顏色



3. 最少學生喜愛 \_\_\_\_\_ 色，只有 \_\_\_\_\_ 人。

4. 最喜愛白色和黑色的學生共有 \_\_\_\_\_ 人。