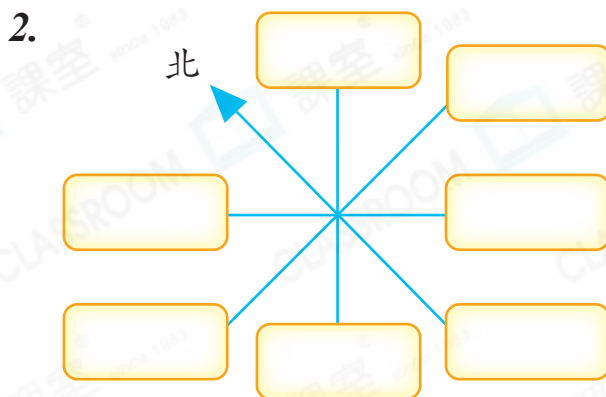
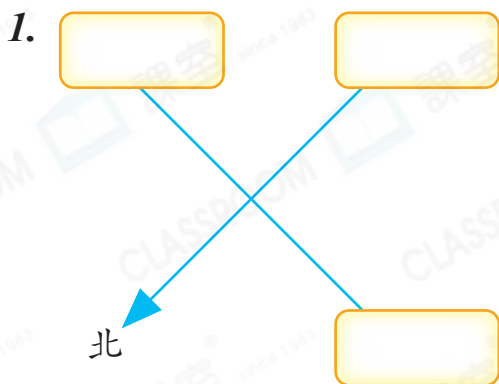




日期：\_\_\_\_\_

成績：\_\_\_\_\_

在  內填方向。

根據地圖，回答下列各題。

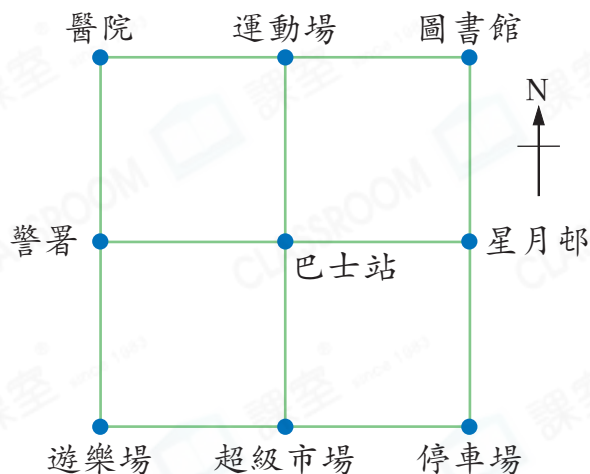
3. 運動場在巴士站的\_\_\_\_\_方。

4. 星月邨在警署的\_\_\_\_\_方。


5. 巴士站在醫院的\_\_\_\_\_方。

6. 遊樂場在圖書館的\_\_\_\_\_方。

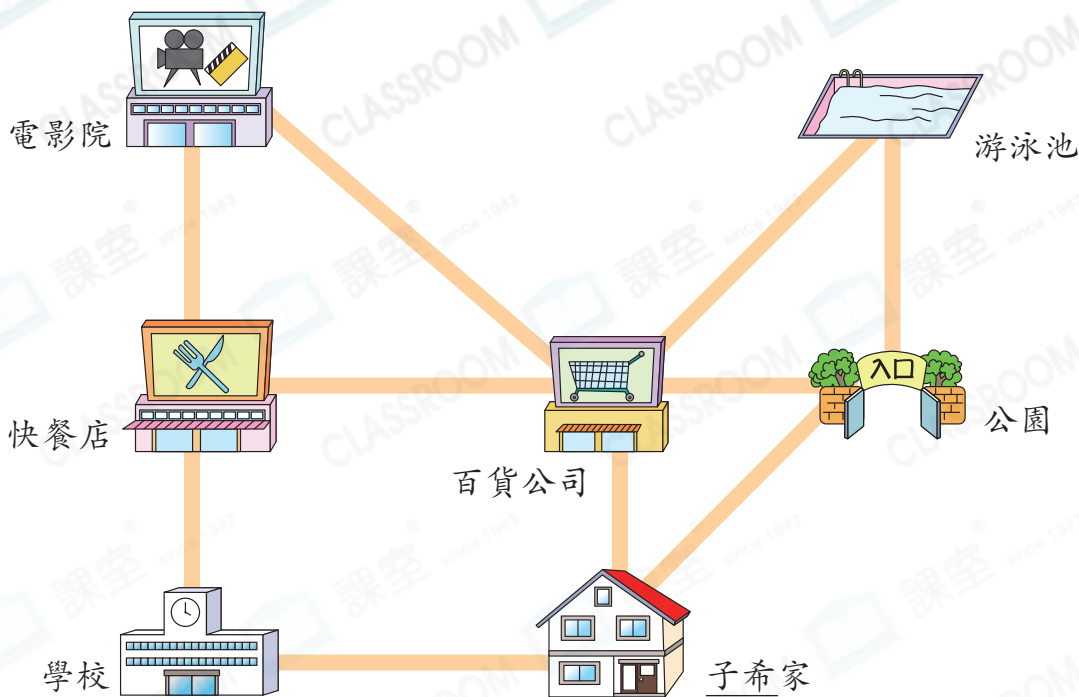
7. 警署在\_\_\_\_\_的西北方。



根據資料，在圖上填人名。

8. 婉琪在子琳的北方。9. 卓源在子琳的東方。10. 文浩在婉琪的西南方和卓源的西方。

11. 下圖是子希家附近的平面圖。電影院在百貨公司的東方。



(a) 公園在快餐店的\_\_\_\_\_方。

(b) 快餐店在\_\_\_\_\_的西北方。

(c) 子希從家出發前往游泳池。

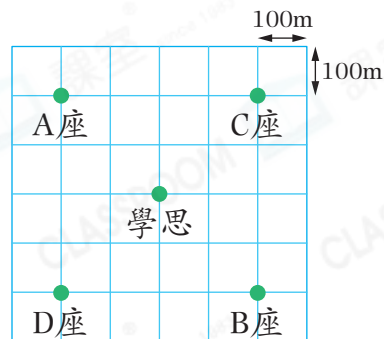
他應先向\_\_\_\_\_方走到\_\_\_\_\_後，轉向\_\_\_\_\_方便可到達游泳池。

**STEM 百科**  
天文台每天都會發佈有關風向的資訊，例如若當天吹「東北風」，即風由東北方吹來。

12. 右圖是朝明苑的地圖。B座在C座的東北方。

(a) 學思要去D座，應向\_\_\_\_\_方走。

(b) 學思到達D座後，往西南方走了200米，再往西北方走了300米。在右圖中加上「X」表示學思現在的位置。



13. 莉雲向右轉一個直角後，面向西南方，她原來面向哪一方？

答案：\_\_\_\_\_方

**進階** 14. 張太太駕車向東方行駛了4km，再轉向南方行駛了4km。如果她想以最短的路程返回起點，她應向\_\_\_\_\_方駕駛。