

複習一

● 1上至3下課題

日期：_____ / _____ / _____
 成績：_____ / 16
 時限： 20分鐘

範疇	評估重點	題目	得分
數	◇ 五位數 ◇ 四則混合計算 ◇ 加法 ◇ 分數的認識	1 - 5	/8
度量	◇ 時間 ◇ 重量 ◇ 長度 ◇ 容量	6 - 7	/4
圖形與空間	◇ 直線和曲線 ◇ 平行和垂直 ◇ 三角形	8 - 9	/4

自我評估

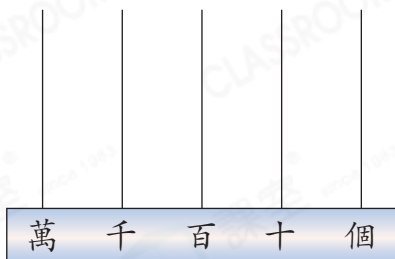
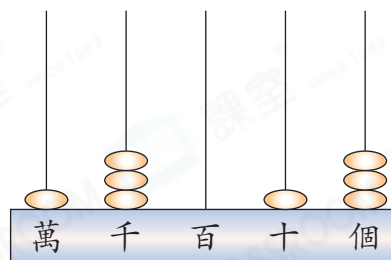
13-16分 

9-12分 

0-8分 

1. 在「60512」這個數中，
- (a) 千位數字是_____，而
- (b) 數字「6」表示的數值是_____。

2. 右圖的算柱代表一個五位數。這個數加8是多少？把結果畫在下圖的算柱上。



3. 昨天有285名遊客參觀美術館，比今天少136名，這兩天共有多少名遊客參觀美術館？

答案：_____名

4. 以下哪項是正確的？

A. $\frac{4}{5} < \frac{2}{5}$

B. $\frac{3}{7} < \frac{3}{8}$

C. $\frac{4}{9} > \frac{2}{9}$

D. $\frac{1}{6} > 1$

評分欄



1分



1分



1分



1分



1分

5. 哥哥付 \$500 購買兩條右面的領帶，應找回多少？(列式計算)



6. 在下列各項填上適當的度量單位。

(a) 弟弟約重 25 _____。

(b) 電飯煲的容量約是 4 _____。

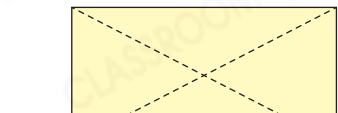
(c) 彌敦道約長 3600 _____。



7. 蔚藍在  放學。18 分鐘後她便回到家，當時是




_____ 午 _____ 時 _____ 分。



8.  沿虛線把左圖的長方形剪開後，可得到四個 _____ 三角形。



9.



(a) 圖一中有  直線 / 曲線 / 平行線 / 垂直線。

( 圈出所有答案)

(b) 圖二中有  直線 / 曲線 / 平行線 / 垂直線。

( 圈出所有答案)

(c) 圖三中有  直線 / 曲線 / 平行線 / 垂直線。

( 圈出所有答案)

