

應用題訓練二



日期：_____

成績：_____

○ 乘法 ○ 除法

1. 敏兒有 874 粒彩珠，製作一條手鏈需要 38 粒彩珠。

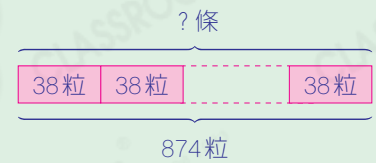
(a) 製作 53 條手鏈需要_____粒彩珠。

(b) 敏兒最多可製作手鏈多少條？



圖

解

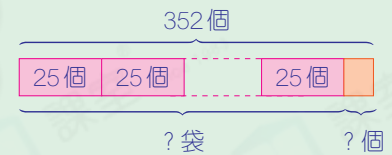


2. 工人把 352 個水餃每 25 個裝成一袋出售，最多可裝成多少袋出售？



圖

解



3.



姊姊

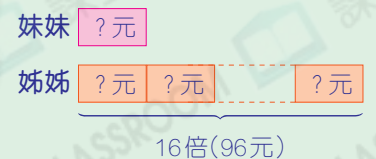
我有 96 元零用錢。

(a) 姊姊有的零用錢是妹妹的 16 倍，妹妹有零用錢多少元？



圖

解



(b) 哥哥有的零用錢是姊姊的 16 倍，哥哥有_____元零用錢。

4. 叔叔每星期工作5天半，每程車費是14元，他每星期共須付來回車費多少元？

Blank area for solving question 4.

提示

先想想工作5天半須要付多少程車費。

5. 嘉偉每月儲蓄63元，他想買一套售583元的百科全書，最少要儲蓄多少個月？

Blank area for solving question 5.

提示

留意餘數的處理。

6. 每個杯麵的售價是\$12。現購買一箱共18個的杯麵，可獲減價\$72，平均每個杯麵便宜了多少？

Blank area for solving question 6.

提示

選出有用的數據。

7. 服裝店有675粒鈕扣。

(a) 店主將鈕扣平均分為15盒，每盒有_____粒。

(b) 店主將其中一盒鈕扣，每10粒分成一包，最多可分成多少包？

Blank area for solving question 7.

提示

利用(a)部分的結果。