

# 第二次小測 (4上數學科)

姓名：

日期：

班別：  ( )

成績：  /14

時限： 15分鐘

(範圍：練習6-8)

一、下列描述正確的，在空格內加「✓」；不正確的加「×」。(5分)

1. 菱形的對邊平行且長度相等。

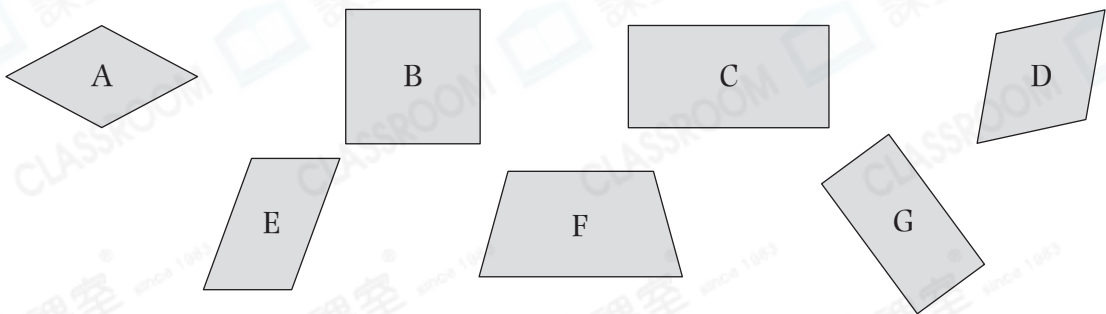
2. 菱形的四個角都是直角。

3. 所有平行四邊形都是菱形。

4. 所有正方形既是菱形，又是長方形。

5. 在一個梯形上畫一條直線，可分割成兩個大小和形狀都相同的三角形。

二、在橫線上寫出所有代表答案的英文字母。(3分)



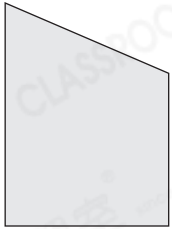
1. 所有菱形： \_\_\_\_\_

2. 所有長方形： \_\_\_\_\_

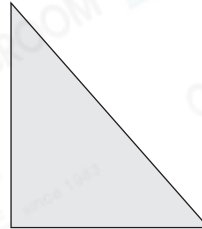
3. 所有平行四邊形： \_\_\_\_\_

三、在下列各圖中加上一條直線，分割出指定的圖形。(4分)

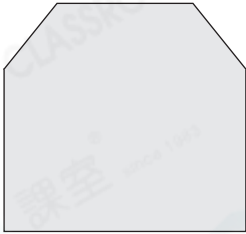
1. 三角形和平行四邊形



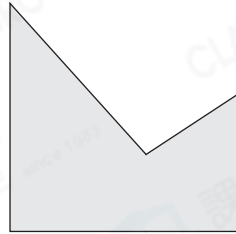
2. 三角形和梯形



3. 梯形和長方形

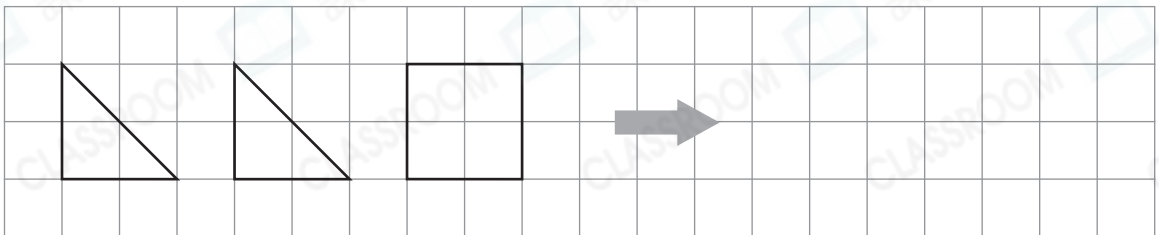


4. 兩個梯形



四、利用左面的圖形拼砌出指定的圖形，並畫在方格紙上。(2分)

1. 長方形



2. 梯形

