

棒形圖(二)

姓名:

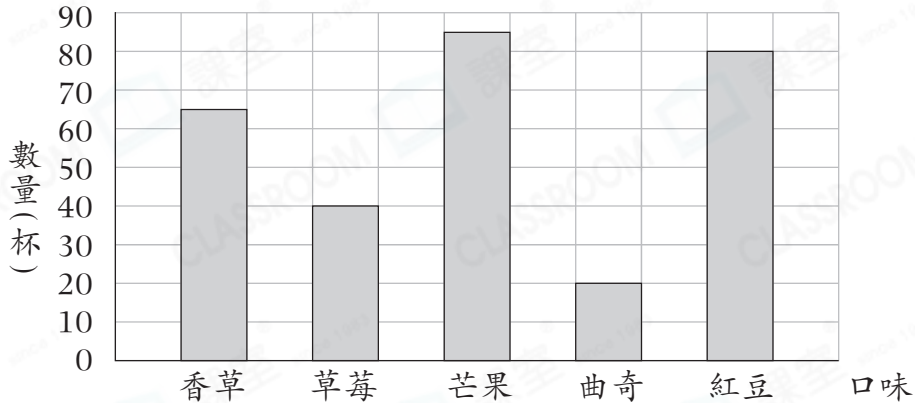
日期:

班別:

熱身練習

1.

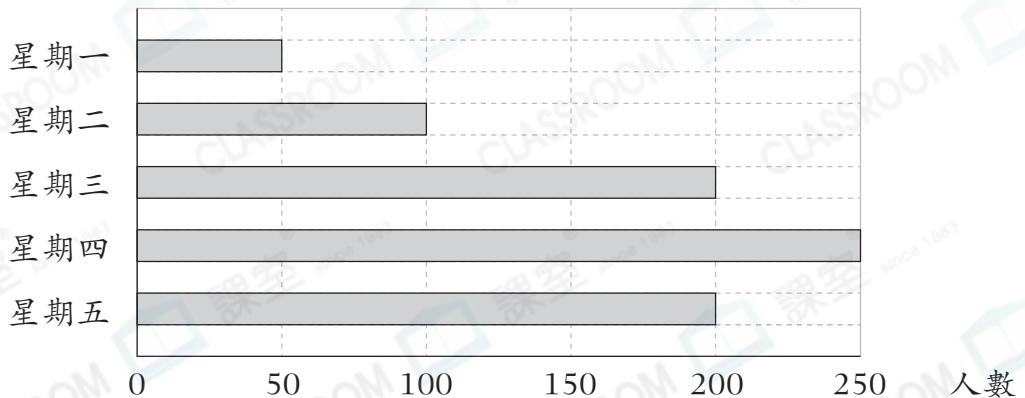
雪糕店昨天售出的雪糕數量



- (a) 縱軸代表* 數量 / 口味 (*圈出答案), 每格代表_____杯。
- (b) _____雪糕最受歡迎, 共售出_____杯。
- (c) 雪糕店昨天共售出_____杯雪糕。

2.

星期一至五參加植樹活動的人數



- (a) 星期_____和星期_____參加植樹活動的人數相同。
- (b) 星期_____參加植樹活動的人數是星期一的兩倍。

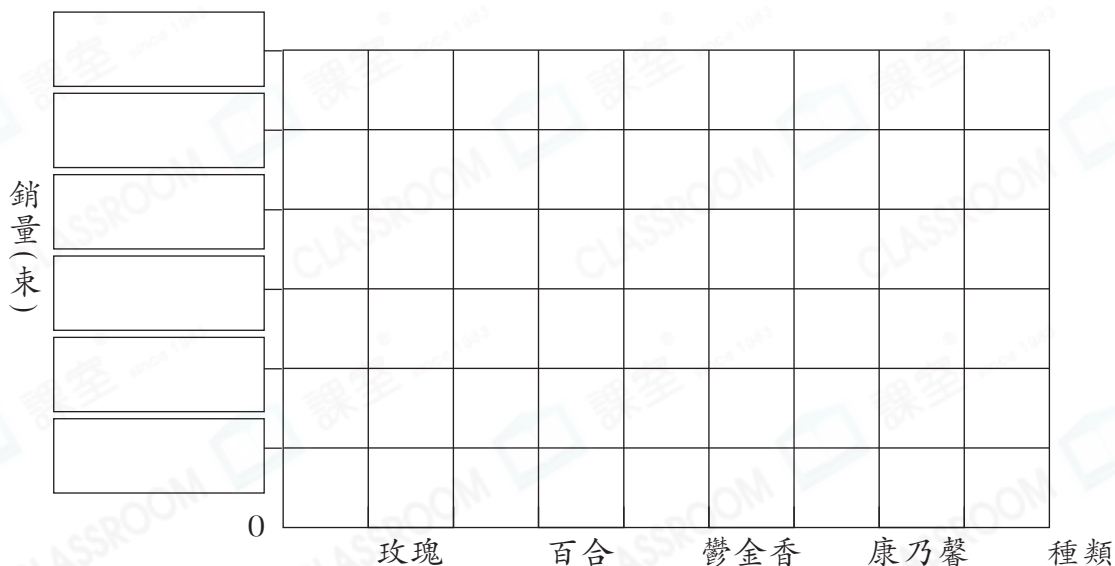
能力升級

3. 花店店主統計了上一個季度各種花的銷量。

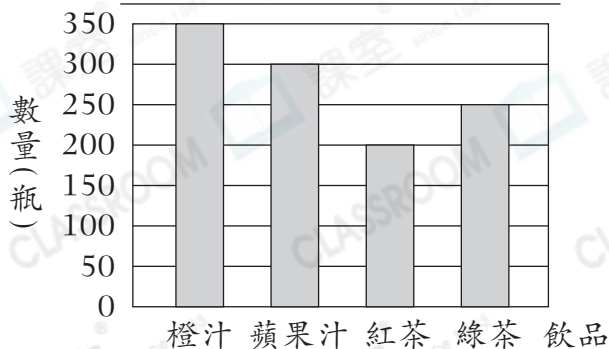
種類	玫瑰	百合	鬱金香	康乃馨
銷量(束)	494	278	203	435
取近似值至百位				

根據湊整後的數據，完成以下的棒形圖，並填上標題。

(標題)



4. 超級市場購入的飲品數量



(a) 超級市場購入的飲品中，共有多少種飲品低於250箱？

答案：_____種

(b) 超級市場購入的果汁比茶類

* 多 / 少 (*圈出答案)

_____箱。