

# 7

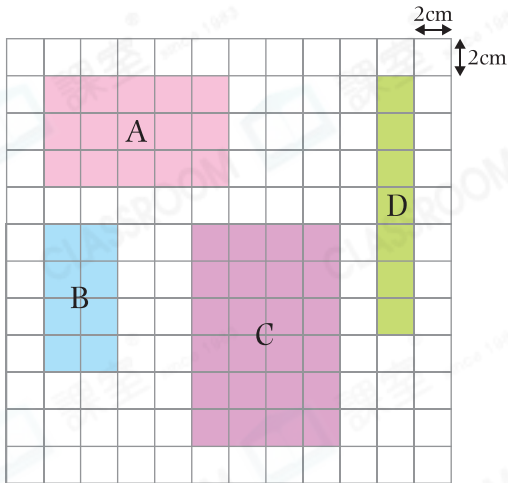
## 長方形的面積



日期：\_\_\_\_\_

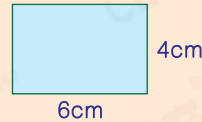
成績：\_\_\_\_\_

根據下列的長方形，完成表格。



長方形的面積 = 長 × 闊

例



面積是：  
 $6 \times 4$   
 $= 24(\text{cm}^2)$

	長方形	長	闊	面積
1.	A	_____ cm	_____ cm	_____ $\text{cm}^2$
2.	B	_____ cm	_____ cm	_____ $\text{cm}^2$
3.	C	_____ cm	_____ cm	_____ $\text{cm}^2$
4.	D	_____ cm	_____ cm	_____ $\text{cm}^2$

列式計算下列各題。

5. 書桌桌面長 80 厘米，闊 50 厘米，它的面積是多少平方厘米？



它的面積是：\_\_\_\_\_

6. 一塊木板的面積是 52 平方米，長是 13 米，闊是多少米？



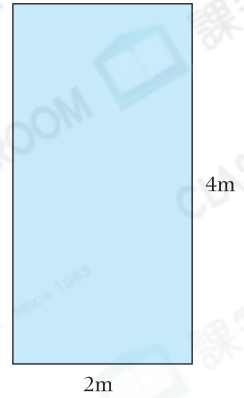
闊是：\_\_\_\_\_

7. 花園長 18 米，闊比長短 5 米，它的面積是多少平方米？



它的面積是：\_\_\_\_\_

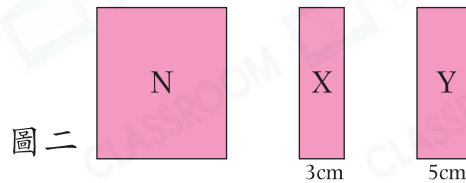
8. 右圖是一間商舖的平面圖，它的租金是每平方米850元。整間商舖的租金是多少元？（列式計算）



9. 籃球場的面積是420平方米，長是28米，籃球場的長和闊相差多少米？

- A. 17米      ○ B. 15米      ○ C. 13米      ○ D. 11米

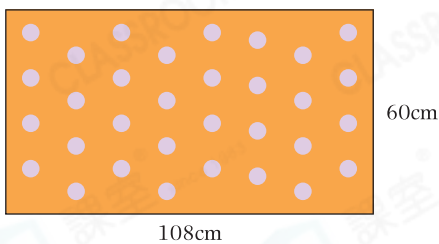
10.



(a) 圖一中，M是一個周界為56cm的長方形，它的面積是\_\_\_\_\_  $\text{cm}^2$ 。

(b) 把M剪成三個長方形，如圖二所示。N的面積是\_\_\_\_\_  $\text{cm}^2$ 。

11.   
 進階

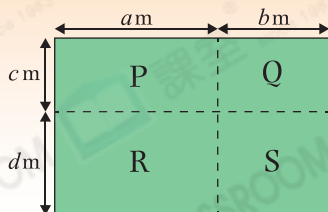


樂林從左面的卡紙中剪出一些邊長為9cm的正方形做聖誕卡，他最多可做\_\_\_\_\_張聖誕卡。

腦力挑戰站



詳盡提示



把上面的長方形分割成P、Q、R和S四個不同的長方形，長方形P、Q和S的面積分別是  $32\text{m}^2$ 、 $24\text{m}^2$  和  $30\text{m}^2$ ，長方形R的面積是\_\_\_\_\_  $\text{m}^2$ 。